

2022-2023 学年度第二学期期末学情问卷

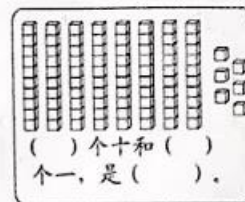
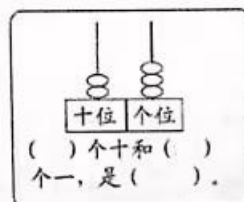
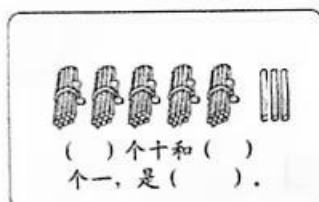
一年级数学

(时间: 60 分钟 满分: 100 分)

题 序	一	二	三	四	总 分
得 分					

一、填空。(每空 1 分, 共 27 分)

1. 填一填。



2. 按规律填数。

(1) $100 \rightarrow 98 \rightarrow 96 \rightarrow \square \rightarrow \square \rightarrow \square \rightarrow 88$

(2) $1 \rightarrow 3 \rightarrow \square \rightarrow \square \rightarrow 9 \rightarrow \square \rightarrow \square$

3. 和 80 相邻的两个数分别是 () 和 ()。

4. 七巧板由 () 种图形组成, 其中有 () 个三角形, 有 () 个正方形, 有 () 个平行四边形。

5. 比 17 多 36 的数是 (); () 比 63 少 12。

6. 个位上是 7 的最小的两位数是 (), 最大的两位数是 ()。

二、观察与估计 (共 10 分)

1. 连一连



2. 猜一猜, 跳远的可能有多少人 (画“√”) ? 拍球的可能有多少人 (画“○”) ?



80 人	70 人	25 人

三、计算 (共 40 分)

1. 直接写得数。(共 10 分)

$$\begin{array}{lllll}
 50+30= & 17+30= & 48-7= & 30+26= & 8+()=15 \\
 67-50= & 25-3= & 4+25= & 68-60= & ()+5=13
 \end{array}$$

2. 在○里填上“>”“<”或“=”。(共 6 分)

$$\begin{array}{lll}
 59+39 \bigcirc 98-67 & 64-24 \bigcirc 30 & 56+6 \bigcirc 66 \\
 46+18 \bigcirc 70-7 & 54+15 \bigcirc 60 & 43-10 \bigcirc 25
 \end{array}$$

3. 用竖式计算。(共 18 分)

$$\begin{array}{lll}
 91-85= & 37+56= & 100-39=
 \end{array}$$

$$\begin{array}{lll}
 34+8= & 87-6= & 43+57=
 \end{array}$$

4.完成下面的表格。(共6分)

	足 球	跳 绳	毽 子
原 有	45 个	() 个	50 个
借 出	20 个	36 个	() 个
还 剩	() 个	24 个	26 个

四、解决问题。(第1题3分,2.3.5题每题4分,第4题8分,共23分)

1.二年级种了多少棵向日葵?

二年级比五年级少种了15棵。



五年级种了63棵向日葵。



$$\square \bigcirc \square = \square \text{ (棵)}$$

答:二年级种了()棵向日葵。

2.小明想买这两种玩具车各一个,100元够吗?



59元



37元

$$\square \bigcirc \square = \square \text{ (元)}$$

答:够了 ☐ 不够 ☐

3.一年级有93人去春游,租了两辆大客车。还有几个人没有上车?



坐了45人。



坐了40人。

$$\square \bigcirc \square = \square \text{ (人)}$$

$$\square \bigcirc \square = \square \text{ (人)}$$

答:还有()人没坐上车。

4.

跳远的有28人。



跑步的有15人。



跳绳的有36人。



(1) 跑步的和跳绳的一共有多少人?

$$\square \bigcirc \square = \square \text{ (人)}$$

答: 跑步的和跳绳的一共有 () 人。

(2) 跳绳的比跳远的多多少人?

$$\square \bigcirc \square = \square \text{ (人)}$$

答: 跳绳的比跳远的多 () 人。

5. 小兔正在参加 50 米的赛跑比赛。请问小兔已经跑了多少米了?



我再跑16米就到终点了。

$$\square \bigcirc \square = \square \text{ (米)}$$

答: 小兔已经跑了 () 米。