

试卷类型:D

2022~2023 学年度第二学期第四次阶段性作业

## 二年级数学

(建议完成时间:60 分钟 满分:105 分)

题号	一	二	三	四	五	总分
得分						

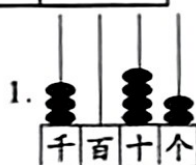
得分	评卷人

juàn miàn shū xiě  
一、卷面书写。(5分)

- (1)书写认真,字迹美观,卷面整洁,作图规范,无空题、无涂改。(5分)
- (2)书写认真,卷面整洁,作图规范,无涂改。(3-4分)
- (3)书写较认真,卷面较整洁,作图较规范。(1-2分)
- (4)书写不认真,卷面不整洁,作图不规范,空题较多,乱涂乱改。(0分)

得分	评卷人

wǒ zī xǐ wǒ huì tián  
二、我仔细,我会填。(每空1分,共22分)



如左图,计数器上的数写作( ),读作( );  
3在( )位上。

2. 余数是5时,除数可以是( )。
3. 在括号里填上合适的数。

( ) 正方形 ( ) 长方形

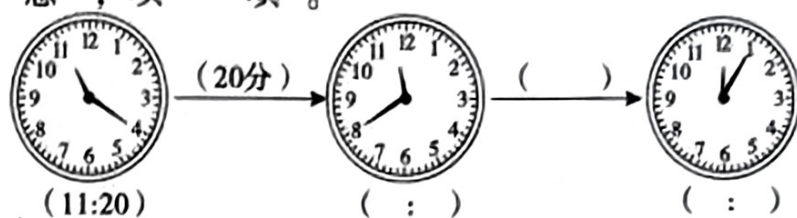
4. 1000 米=( )千米  
60 秒=( )分

1 米=( )分米=( )厘米  
80 分=( )时( )分



北  
↑  
东  
游泳馆在图书馆的( )面,实  
验楼在教学楼的( )面,科技  
馆在教学楼的( )方向,实验  
楼的东北方向是( )。

xiǎng yi xiǎng tián yi tián  
6. 想一想，填一填。



zhǎo guī lǜ tián yi tián  
7. 找规律填一填。

1689、1589、1489、( )、( )。

得分	评卷人

wǒ zhì huì wǒ huì zuò  
三、我智慧，我会做。(共35分)

lián yi lián  
1. 连一连。(5分)




长方形

正方形

平行四边形

zài diǎn zì tú shàng àn yāo qiú jiē zhe huà  
2. 在点子图上按要求接着画。(6分)




直角

锐角

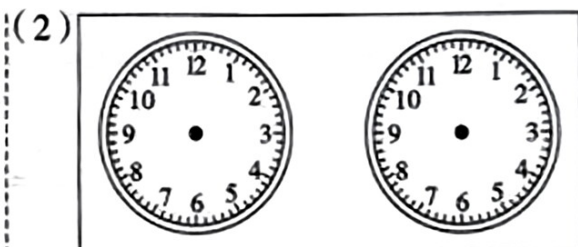
钝角

tián yi tián huà yi huà  
3. 填一填、画一画。(7分)



\_\_\_\_\_时和\_\_\_\_\_时

分针和时针组成的角都是( )  
角，而且同样大。



\_\_\_\_\_时和\_\_\_\_\_时

时针和分针组成的角都是直角。

- xià miàn shì èr bān tóng xué cān jiā kè wài xiǎo zǔ de tǒng jì qíng kuàng  
4. 下面是二(3)班同学参加课外小组的统计情况。  
(每空1分,共6分)

航模组	书法组	美术组	电脑组	科技组
✓ ✓ ✓	○ ○	正 正	正 正	正
✓ ✓ ✓	○ ○	正	正	
✓	○			

(1)把上面统计出的数据整理到下面的表格中。

组名	航模组	书法组	美术组	电脑组	科技组
人数					

(2)参加电脑组的人数比航模组多( )人。

- shí yàn xiǎo xué jǔ xíng ān quán zhī shì jìng sài sān gè duì suǒ dé de fēn shù  
5. 实验小学举行安全知识竞赛,三个队所得的分数  
gāng hǎo dōu shì sān wèi shù dàn měi duì de fēn shù pái shàng dōu yǒu yì zhǎn  
刚好都是三位数,但每队的分数牌上都有一盏  
dēng huài le gè duì suǒ dé fēn shù rú xià  
灯坏了,各队所得分数如下:(共11分)

阳光队	星辰队	彩虹队
4 □ 8 分	7 □ 2 分	59 □ 分

- (1)找出最高分,在下面画“┐”;找出最低分,在下面画“△”。(2分)  
(2)彩虹队可能取得的最高分数是( )分,可能取得的最低分数是( )分。(2分)  
(3)星辰队的分数在700分和750分之间,把可能的分数由大到小写出来。(5分)  
( ) > ( ) > ( ) > ( ) > ( )  
(4)阳光队的分数接近440分,阳光队的分数可能是( )分。(2分)

得分	评卷人

wǒ xì xīn wǒ huì suàn  
四、我细心,我会算。(共15分)

kǒu suàn

1. 口算。(每小题1分,共8分)

300+500=	200+250=	3600-600=	1700-1000=
156+200=	760-400=	980-150=	1700+300=

liè shù shì jì suàn dài de yào yàn suàn

2. 列竖式计算,带#的要验算。(7分)

30÷4=	730+246=	* 252-199=
-------	----------	------------

得分	评卷人

wǒ tiǎo zhàn wǒ huì jiě  
五、我挑战，我会解。(共28分)

1. (4分)



65块

每盒8块，可以装几盒？  
还剩几块？



2. 超市共购进 68 台饮水机，每次运 9 台，至少需要运几次才能全部运完？(4分)

3. 买早餐。(每小题4分，共8分)

(1) 买一份煎饺的钱可以买几个包子？还剩多少元？



煎饺7元



面条9元



包子3元

(2) 思思用 20 元最多可以买几碗面条？

4. 一辆货车运送大米，已经运走了 526 袋，还没运走的比已经运走的多 88 袋，还没运走的有多少袋？(4分)

5. 张叔叔出差住了 2 天酒店，该酒店每天的价格一样，第一天订酒店花了 308 元，并获得了一张优惠券，第二天使用优惠券后支付了 179 元。(每小题4分，共8分)

(1) 优惠券优惠了多少元？

(2) 订酒店两天一共花了多少元？