

# 数学

成绩 \_\_\_\_\_

一、认真填一填。(每空1分,共36分)

						3	2	1	0		9	8	7	6	5	4	3	2	1	0
--	--	--	--	--	--	---	---	---	---	--	---	---	---	---	---	---	---	---	---	---

1. (1) 个位上是5,十位上是6的数是( ),读作:( )。

(2) 73 里面有( )个十和( )个一。

2. 按顺序填数。

26	27		29	
----	----	--	----	--

	99	98		
--	----	----	--	--

3. 写出下面的钱数。



( ) 元

( ) 元 ( ) 角

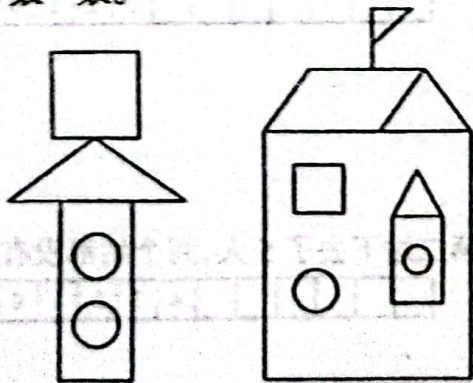
4. 4角 = ( ) 分

2元7角 = ( ) 角

50角 = ( ) 元

81角 = ( ) 元 ( ) 角

5. 数一数。



( ) 个圆

( ) 个三角形

( ) 个正方形

( ) 个长方形

( ) 个平行四边形

6. 在○里填“>”“<”或“=”。

75 ○ 74

16-7 ○ 7


65+20 ○ 85

89 ○ 90

36+5 ○ 86

73-4 ○ 33



7. 在  里填上合适的数。

$6 + \text{heart} = 12$

$9 + \text{heart} = 29$

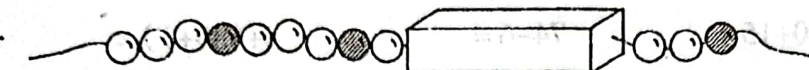
$46 - \text{heart} = 40$




$\text{heart} + 7 = 15$

$\text{heart} + 30 = 35$

$60 - 50 = \text{heart}$

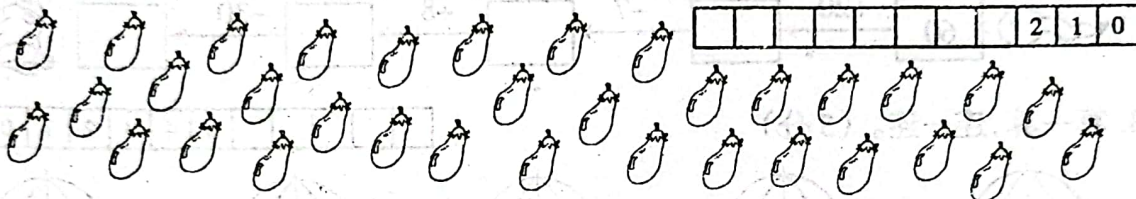
8.



 遮住了 4 颗珠子, 其中有 ( ) 颗 , ( ) 颗 .

二、按要求完成下面各题。(14 分)

1. 34 个茄子, 8 个装一袋, 可以装满 ( ) 袋。(2 分)




2. 把十位上与个位上相同的数写在右面的框里。(4 分)

							4	3	2	1	0
--	--	--	--	--	--	--	---	---	---	---	---

42	33	50	88
39	77	64	99



--	--	--	--	--	--	--	--	--	--	--	--

3. 用下面哪个物体能画出  ? 圈出来。(2 分)

										2	1	0
--	--	--	--	--	--	--	--	--	--	---	---	---



4. 下面各题中都有一个数不符合规律, 把它圈出来, 并改正在横线上。(4 分)

										4	3	2	1	0
--	--	--	--	--	--	--	--	--	--	---	---	---	---	---

(1) 10    20    30    45    50    60    \_\_\_\_\_

(2) 48    44    40    36    32    26    \_\_\_\_\_

5. 给出的钱能买什么? 在能买的物品下面画“√”。(2 分)

										2	1	0
--	--	--	--	--	--	--	--	--	--	---	---	---



7 元 8 角

10 元 5 角

8 元 7 角

( )    ( )    ( )





### 三、仔细算一算。(25分)

#### 1. 直接写出得数。(16分)

				16	15	14	13	12	11	10	9	8	7	6	5	4	3	2	1	0
--	--	--	--	----	----	----	----	----	----	----	---	---	---	---	---	---	---	---	---	---

$16-8=$

$26+7=$

$30+50=$

$15-9+3=$

$11-7=$

$40+15=$

$74-6=$

$4+(30+1)=$

$13-9=$

$35-9=$

$56+4=$

$45+8-2=$

$12-3=$

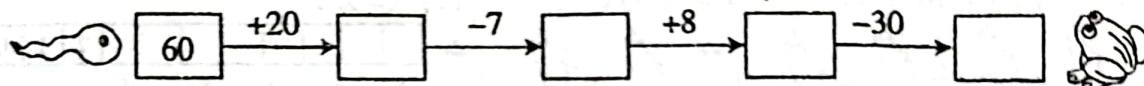
$64-40=$

$70-6=$

$70-(50-20)=$


#### 2. 填数。(4分)

							4	3	2	1	0
--	--	--	--	--	--	--	---	---	---	---	---



#### 3. 算一算,连一连。(5分)



					5	4	3	2	1	0
--	--	--	--	--	---	---	---	---	---	---



### 四、分类与整理。(6分)

					6	5	4	3	2	1	0
--	--	--	--	--	---	---	---	---	---	---	---

根据布娃娃的种类分一分,再涂一涂、填一填。



( )个

( )个

( )个





## 五、解决问题。(19分)

1. 小华原有 15 支铅笔, 送给弟弟 7 支后, 小华还有多少支铅笔? (3分)

							3	2	1	0
--	--	--	--	--	--	--	---	---	---	---

2. 妈妈买回 14 个桔子, 吃了一些后, 还剩 5 个。吃了多少个桔子? (3分)

							3	2	1	0
--	--	--	--	--	--	--	---	---	---	---

3. 小美有 37 本故事书和 8 本漫画书。故事书和漫画书一共有多少本? (3分)

							3	2	1	0
--	--	--	--	--	--	--	---	---	---	---

4.



草地上有  
30 只公鸡。

有 45 只  
母鸡。



(1) 公鸡比母鸡少多少只? (3分)

							3	2	1	0
--	--	--	--	--	--	--	---	---	---	---

(2) 公鸡和母鸡一共有多少只? (3分)

							3	2	1	0
--	--	--	--	--	--	--	---	---	---	---

5. 公交车上原来有 40 人, 第一站下去了 4 人, 第二站下去了 5 人, 两个站都没有人上车。第二站后公交车上有多少人? (4分)

							4	3	2	1	0
--	--	--	--	--	--	--	---	---	---	---	---

