

2022~2023 学年度下学期
小学二年级期末数学水平测试卷
(笔试部分)

一、填空。[共 20 分。]

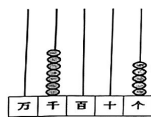
- 在括号里填上合适的单位。
一个汉堡重 280 ()；一个西瓜重 6 ()。
- 3 个千和 9 个一组成的数是 ()，比它多 1 的数是 ()。
270 里面有 () 个十，5000 里面有 () 个千。
- 三千零二十写作 ()；其中的 2 在 () 位，表示 2 个 ()。
- 在 ○ 里填上 “>”、“<” 或 “=”。

6g ○ 6kg 1028 ○ 998 1000 克 ○ 1 千克

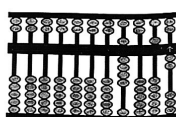
- 排练集体舞，同学们按照 “二男二女” 的顺序站位，第 24 个同学是 () (填男或女)，第 29 个同学是 () (填男或女)。
- 在算式 $\square \div 5 = 3 \cdots \square$ 中，余数最大只能是 ()。
- 看图写数。

千	百	十	个
●●	●	●●	

()



()



()

- 在右面的方格中，每行、每列都有 “1~4” 这四个数字，并且每个数字在每行、每列都只出现一次。☺ 代表数字 ()。

	2		
		☺	4
	3		
1	☆	3	

二、选择正确答案的序号填在括号里。[共 6 分。]

- 下面剪纸方法中可以剪成右边图案的是 ()。



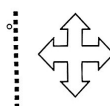
①



②



③



- 下面分法不平均分的是 ()。



①

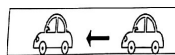


②



③

- 下列图片中：() 是轴对称图形；() 的运动方式是旋转；() 的运动方式是平移。



①



②



③

三、计算。[每题 3 分，共 15 分。]

- 列竖式计算。

$$35 \div 6 =$$

$$58 \div 9 =$$

$$74 \div 8 =$$

- 脱式计算。

$$20 + 15 \div 5$$

=

=

$$75 - 38 + 22$$

=

=

$$42 \div (43 - 37)$$

=

=

四、填一填、画一画、写一写。[共8分。]

1. 将 30 颗珠子全部装进盒子里，每盒最多装 8 颗。至少需要多少个这样的盒子？

小刚说需要 3 个，小林说需要 4 个。

(1) 谁说的对？在他的姓名后面画√。 小刚() 小林()

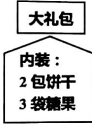
(2) 用自己喜欢的方式说明理由。(可以列式、画图或用文字)

2. 李老师有 10 包饼干，18 袋糖，想配成右边这样的大礼包，最多能配成多少个？

小华说最多能配 5 个，小李说最多能配 6 个。

(1) 谁说的对？在他的姓名后面画√。 小华() 小李()

(2) 在下面用自己喜欢的方式说明理由。(可以列式、画图或用文字)



五、解决问题。[共26分。]

1. 体育室有 36 个篮球。

(1) 如果把这些篮球平均分给 6 个班，每班可以分到多少个篮球？

(2) 如果每班分 9 个篮球，已经分了 3 个班，已经分了多少个篮球？

2. 小文原有 32 元钱，妈妈又给了他 16 元。小文用这些钱刚好买了 8 张公园门票，公园门票每张多少钱？

画图：

列式计算：

3. 一条裤子两百多元，一件上衣六百多元。爸爸带了 800 元，买这套衣服钱够吗？把你的想法用文字或算式表示出来，并在合适的答案后面画“√”。

够() 不够()

4. 投票选一项自己最喜欢的运动项目，二(3)班每一位同学都参加了投票，下面是他们班的投票情况：

运动项目	游泳	踢毽子	跳绳	跑步
人数	正正正	正丁		

(1) 把投票结果填在下面表中。

运动项目	游泳	踢毽子	跳绳	跑步
人数				

(2) 最喜欢()运动项目的人数最多，最喜欢跳绳的人数比最喜欢踢毽子的人数多()人。

(3) 二(3)班一共有()人。