

临潼区 2022 ~ 2023 学年度第二学期期末质量监测

三年级数学试题

注意事项:

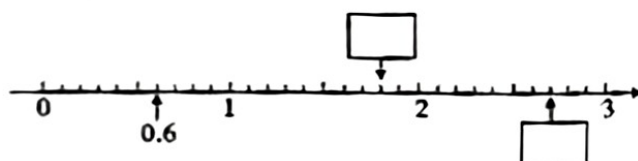
1. 本试卷共 4 页, 满分 100 分, 时间 90 分钟, 学生直接在试题上答卷;
2. 答卷前将装订线内的项目填写清楚。

题号	一	二	三	四	五	六	总分
得分							

得分	评卷人

一、想一想, 填一填。(每空 1 分, 共 21 分)

1. 8 元 6 角写成小数是()元, 这个小数读作()。
2. 在校园爱心捐款活动中, 同学们纷纷拿出自己的零花钱, 梅梅捐了 22.8 元, 玲玲捐了 24.2 元, 皮皮捐了 24.5 元。把这三个数从大到小排列:() > () > (), () 捐的零花钱最多。
3. 在 里填上合适的小数。



4. 右图中每个 \square 的面积代表 1 平方厘米, 阴影部分图形的面积是()平方厘米。



5. 强强 12 岁了, 他只过了三个生日, 他的生日是()月()日。

6. 填上合适的单位名称。

一间教室的面积约 50()

一张身份证的面积约 46()

7. 2 平方米 = () 平方分米

400 平方厘米 = () 平方分米

600 平方分米 = () 平方米

2 日 = () 时

8. 中国—中亚峰会于 2023 年 5 月 18 日至 19 日在陕西省西安市举行, 共举办了()天, 这是 2023 年我国首场重大主场外交活动, 这一年共()天。

9. 货场有 840 千克货物需要运走, 用 2 辆汽车 3 次才能运完, 平均每辆车每次运货()千克。

10. 有 6 个人, 每两个人握一次手, 一共要握()次手。

得分	评卷人

二、判对错, 我能行! (对的在括号里画“√”, 错的画“×”)(每小题 1 分, 共 5 分)

1. 书店在学校的西南面, 那么学校一定在书店的西北面。


()

2. 一个边长是4厘米的正方形,它的周长和面积一样大。 ()
3. 把1米平均分成10份,每份是 $\frac{1}{10}$ 米,用小数表示0.1米。 ()
4. 小华是一名三年级的小学生,他每天坚持课后延时服务,放学时间大约是18时。 ()
5. 两位数乘两位数,积一定是三位数。 ()

得分	评卷人

三、选一选,要仔细!(将正确答案的序号填在括号里)(每小题1分,共5分)

1. 下面()的面积接近1平方分米。
 ①指甲 ②大门 ③粉笔盒的底面
2. $59 \times () < 360$,括号里最大能填()。
 ①5 ②6 ③7
3. 用8个边长是2分米的正方形拼成的长方形的面积是()平方分米。
 ①32 ②8 ③16
4. 下面()中涂色部分表示0.3。



5. 2024年第一季度有()天。
 ①91 ②90 ③92

得分	评卷人

四、算一算,要细心,不马虎!(共25分)

1. 直接写出得数。(每小题1分,共8分)

$24 \times 2 =$

$20 \times 120 =$

$180 \div 6 =$

$62 \div 2 =$

$23 \times 10 =$

$0.2 + 0.4 =$

$2.5 - 2.1 =$

$39 \times 21 \approx$

2. 用竖式计算,带※的要验算。(每小题2分,验算2分,共8分)

$20.6 + 15.8 =$

$24.1 - 2.6 =$

$\ast 749 \div 7 =$

3. 用心算一算。(每小题3分,共9分)

$630 \div 3 \times 6$

$64 + 404 \div 4$

$(518 - 290) \div 6$

得分	评卷人

五、画一画,连一连,算一算,我会填! (共22分)

1. 辨一辨,填一填。(每空1分,共5分)

在☆的东南面画“○”;

在☆的东北面画“◇”;

在☆的西面画“△”。

☺在☆的()面,在△的()面。

2. 仿照例子,连一连。(共3分)

凌晨2时

晚上10时

上午11时

下午3:00

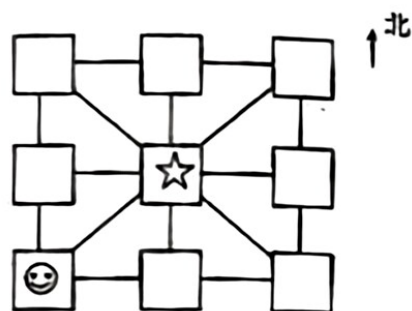
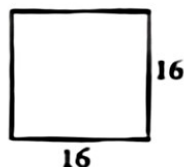
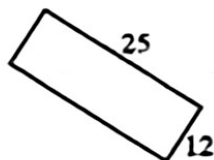
11时

2时

15:00

22时

3. 计算下面图形的周长和面积。(单位:厘米)(每小题4分,共8分)



4. 下面是阳光小学三年级四个课外兴趣小组的学生人数统计表。(每人只能选一个兴趣小组)(每空1分,共6分)

人数 性别 \ 小组	数学小组	音乐小组	航模小组	美术小组	合计
男生	12	9	15	12	
女生	8	10		15	39

(1) 请补充完整上面的复式统计表。

(2) 三年级男生喜欢()小组的人数最多,女生喜欢()小组的人数最少。

(3) 三年级学生喜欢数学小组的有()人,喜欢音乐小组的有()人。

得分	评卷人

六、会思考,会分析,我最棒! (共22分)

1. 小红要去超市买一个订书机和一个文具盒。

(1) 小红一共花了多少钱? (4分)



4.8元



13.5元

(2) 小红付给收银员 20 元, 应找回多少钱? (4分)

2. 小亮家有 3 口人, 平均每人每月产生 12 千克垃圾。小亮家一年(12 个月)共产生多少千克垃圾? (4分)

3. 李强计划暑假去奶奶家, 他坐火车当天就可以到达。火车每小时行驶 80 千米, 李强家到奶奶家的路程是多少千米? (5分)



上午9时



下午6时

4. 小兰家有一个长 12 米、宽 3 米的走廊。妈妈想用边长是 3 分米的正方形地砖铺满走廊地面, 妈妈最少需要买多少块地砖? (5分)