

三年级数学

题号	一	二	三	四	五	总评
等级						

卷首语：亲爱的同学们，这份试卷将再次记录你的自信与智慧的收获。请认真审题，看清要求，仔细作答，祝你取得好成绩！

一、填空题。（每题2分，共20分。）

1、在下面的（ ）里填上合适的单位名称。



篮球场的面积约是 300（ ） 身份证的面积约是 50（ ）



一幢楼高约 35（ ） 电视机屏幕的面积约 60（ ）



2、2023 共有（ ）天，它的 7、8 月共有（ ）天。

3、 $\square 35 \div 5$ ，如果商是三位数， \square 里最小可以填（ ），如果商是两位数， \square 里最大可以填（ ）。

4、明明有 3 件不同的上衣和 2 条不同的裤子，一共有（ ）种不同的搭配。用 2，5，8 能组成（ ）个没有重复数字的两位数。

5、 $\square \div 20 = 15 \cdots \blacktriangle$ ， \blacktriangle 最小是（ ），此时 \square 是（ ）。

6、40 平方分米 = （ ）平方厘米 3 年 = （ ）个月

2700 平方分米 = （ ）平方米 6 角 = （ ）元

7、一列火车早上 8:30 从东莞出发，当天晚上 9:30 到达上海。晚上 9:30 用 24 时记时法表示为（ ），从东莞到上海共用了（ ）小时。

8、一个罐头上写着生产日期是 2022 年 1 月 31 日，保质期 18 个月，则 2023 年 6 月 30 日该罐头（ ）食用。（填“能”或“不能”）
2023 年 8 月 1 日该罐头（ ）食用。（填“能”或“不能”）

9、有两个大小一样的长方形，长都是 6 厘米，宽都是 3 厘米，如果把它们拼成一个正方形，这个正方形的边长是（ ）厘米，面积是（ ）平方厘米。

10、在 \bigcirc 里填上“>”“<”或“=”。

16.8 \bigcirc 18.6

2 平方米 \bigcirc 200 平方厘米

35 \times 40 \bigcirc 34 \times 50

72 时 \bigcirc 3 天

二、判断题。（对的打“√”，错的打“×”。每题1分，共5分。）

11、0 除以任何数都得 0。（ ）

12、如果超市在医院的北面，那么医院在超市的南面。（ ）

13、妈妈去北京出差一个星期，她 9 月 31 日从北京回来。（ ）

14、小数都比整数小。（ ）

15、面积相等的图形，周长也一定相等。（ ）

三、选择题。（每题1分，共5分。）

16、库房里有 48 台冰箱，一辆货车一次送 4 台，每天送 2 次。这些冰箱多少天能够送完。正确的列式是（ ）。

A. $48 \times 4 \times 2$

B. $48 \div 4 \div 2$

C. $48 \div 4 \times 2$

17、 28×42 的结果最接近（ ）。

A. 1200

B. 800

C. 1000

18、一部电影从下午 3 时 25 分开始播放，共播放 1 时 30 分，（ ）结束。

A. 4 时 55 分


B. 16 时 55 分

C. 下午 4 时 50 分

19、一共有 256 张邮票，用 2 本邮册正好装完，平均每本邮册装多少张？列竖式解答如右图，箭头所指的“2”表示（ ）。

A. 平均分成两本邮册 B. 分掉了 200 张 C. 分掉了 2 张

20、用两条同样长的铁丝围成下面两个图形，说法正确的是（ ）。



A. ①号图形面积大 B. ②号图形面积大 C. 两个图形面积相等

四、计算题。（29分）

21、直接写出得数。（6分）

$560 \div 8 =$ $800 \div 4 =$ $32 \times 30 =$ $12 \times 200 =$

$220 \times 4 =$ $4.3 + 7 =$ $20 - 1.8 =$ $170 \times 3 =$

$97 \div 9 \approx$ $475 \div 8 \approx$ $352 \div 5 \approx$ $500 \div 7 \approx$

22、列竖式计算。（每小题2分，带★每小题3分，共14分。）

$36 \times 58 =$ $13 \times 22 =$ ★ $737 \div 6 =$

验算：

$628 \div 2 =$

$35.2 + 13.9 =$

$\star 481 \div 5 =$
 验算:

23、脱式计算。(共9分)

$638 - 35 \times 16$

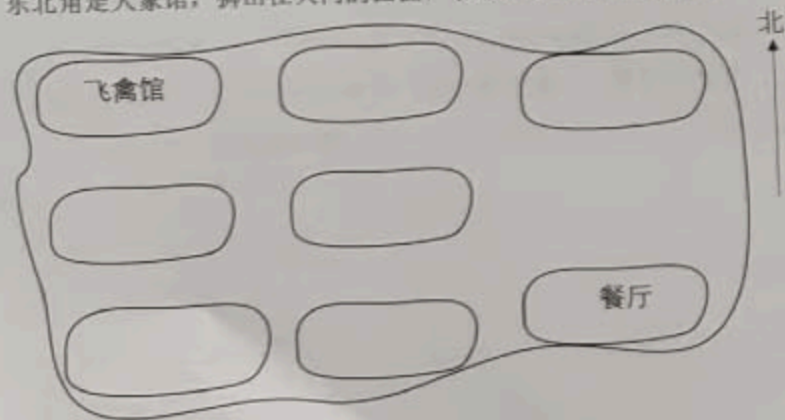
$125 \div 5 \times 39$

$420 - 400 \div 5$

五、解答题。(第24、25题各6分,第26题4分,其余每题5分共41分)


24、下面是动物园的示意图,根据描述,在图中填上各场馆的位置。

动物园的正中心是熊猫馆,熊猫馆的南面是大门,北面是长颈鹿馆,东北角是大象馆,狮山在大门的西面,袋鼠馆在飞禽馆的南面。



25、下面每个口代表1平方厘米。

(1)在方格纸上,画出面积是16平方厘米的长方形和正方形各一个。



(2)算一算它们的周长。

长方形的周长:

正方形的周长:

26、学校买来一捆长352米的绳子用来做长跳绳,每根长5米,可以做多少根?还剩多少米?

27、农场5头奶牛一天产奶210千克,24头奶牛一天产奶多少千克?

28、书房的长是6米,宽是3米。用面积为9平方分米的正方形地砖铺地,需要多少块地砖?

29、小明带了10元钱去买文具,买一支铅笔花了0.7元,一支钢笔花了5.6元,他还剩多少钱?

30、一艘轮船上午10:20开船,18:20到达目的地。共行驶了536千米,平均每小时行驶多少千米?

31、下面是阳光小学三(1)班学生1分钟跳绳成绩的统计表。

人数 性别	少于36	36-102	103-117	118-139
男生	2	3	16	2
女生	2	4	14	4

规定:三年级1分钟跳绳标准:少于36个为不达标,36个以上为达标。36-102个为及格,103-117个为良好,118-139个为优秀。

(1)三(1)班男生有()人达标,女生有()人达标。

(2)三(1)班一共有()人,不达标的有()人。

(3)根据上面统计表的数据,你有什么建议?