

一年级数学

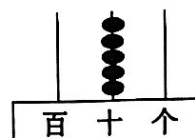
(考试形式: 闭卷 考试时间: 60 分钟 满分 100 分)

题目	一	二	三	四	五	六	总分
得分							

wǒ huì tián kōng

一、我会填空。(每空 1 分, 共 27 分)

1.



- (1) 写作 () (2) 写作 ()
读作 () 读作 ()

2. 由 9 个一和 5 个十组成的数是 (), 它的前一个数是 (), 后一个数是 ()。




3. 比 37 多 40 的数是 (), 比 47 少 9 的数是 ()。

4. 6 元 = () 角 81 角 = () 元 () 角 4 角 5 分 = () 分

5. 在 ○ 里填上 “>”、“<” 或 “=”

73 ○ 37 38 - 9 ○ 30 15 - 7 - 3 ○ 15 - (7 - 3)

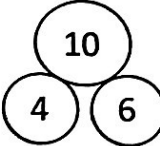
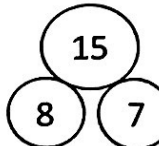

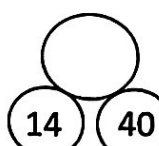
3 元 2 角 ○ 10 角 100 分 ○ 1 元 2 元 ○ 6 元 - 4 角

6. 一张  可以换 () 张 , 也可以换 () 张 .

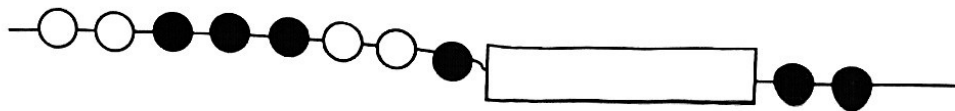
7. 找规律, 填一填。

(1) 1 2 4 7 11 _____ _____ 29

(2)

			
---	---	--	---

8. 下图是玲玲按规律给妈妈穿的一串手链，遮住了5颗珠子，遮住的珠子中有（ ）颗○和（ ）颗●。






wǒ huì pàn duàn

二、我会判断。（对的在括号里画“√”，错的画“×”）（5分）

- 4个一和6个十组成的数是46。（ ）
- 计算 $43-4$ 时，先算 $13-4=9$ ，再算 $30+9=39$ 。（ ）
- 77 中的两个“7”表示的意义相同。（ ）
- 读数和写数都要从高位起。（ ）
- 一个两位数，个位上的数字与十位上的数字之和是9，这个两位数最大是81。（ ）

wǒ huì xuǎn zé

三、我会选择。（将正确答案的序号填在括号里）（5分）

- 下面的图形（ ）不可以画出○。
 ①  ②  ③ 
- 回收废电池，明明回收了27节，比军军回收的少得多，军军回收了（ ）节。
 ① 65 ② 32 ③ 15
- 下列算式中“3”和“6”可以直接相加的是（ ）。
 ① $34+6$ ② $73+6$ ③ $62+3$
- 李老师买了三套书，每套5本，一共有（ ）本书。
 ① 8 ② 10 ③ 15
- 一块橡皮的价钱是2元5角，下面的付钱方法中，不正确的是（ ）。
 ① 2张1元和1张5角
 ② 2张1元和5张1角
 ③ 1张1元和5张5角

wǒ huì dòng shǒu cāo zuò
四、我会动手操作。(19分)


(一) 圈一圈，填一填。(圈一圈 2 分，填一填 2 分，共 4 分)



22 盒牛奶，6 盒装一箱，可以装 () 箱，还剩 () 盒。

(二) 观察下图，完成下面各题。(共 15 分)

1. 涂一涂。(4 分)



2. 填一填。(共 11 分)

(1)	图形				
	个数				

(2) 一共有 () 个图形。

(3) () 最多，() 最少。() 和 () 同样多。

(4) \triangle 比 \square 少 () 个， \bigcirc 比 \triangle 多 () 个。

wǒ huì jì suàn
五、我会计算。(共 16 分)

1. 直接写出得数。(10 分)


$$15-9= \quad 36+8= \quad 93-40= \quad 72-5= \quad 34+20-40=$$

$$80-30= \quad 96-4= \quad 8+57= \quad 20+66= \quad 75-(27+3)=$$

2. 看图列式计算。(每小题 3 分，共 6 分)



$$\square \bigcirc \square = \square ()$$



$$\square \bigcirc \square = \square ()$$

wǒ huì jiě jué wèn tí
六、我会解决问题。（共28分）

1. 猴哥哥和猴弟弟一起摘桃子，一共摘了16个桃子。猴弟弟摘了7个，猴哥哥摘了多少个？（4分）

$$\square \bigcirc \square = \square \quad (\quad)$$

口答：猴哥哥摘了 个。

2. 学校原来有25根跳绳和30个篮球。一共有多少根跳绳？（5分）

$$\square \bigcirc \square = \square \quad (\quad)$$

又买了20根跳绳

口答：一共有 根跳绳。

3. 花丛里原来有22只蝴蝶，飞走了8只，又飞来了10只。花丛里现在有多少只蝴蝶？（5分）

$$\square \bigcirc \square \bigcirc \square = \square \quad (\quad)$$

口答：花丛里现在有 只蝴蝶。

4. 购物



60元



10元



3元



28元

- (1) 王阿姨买一个转笔刀和一支笔，一共需要多少元？（4分）

$$\square \bigcirc \square = \square \quad (\quad)$$

口答：一共需要 元。

- (2) 一本笔记本比一个书包便宜多少元？（4分）

$$\square \bigcirc \square = \square \quad (\quad)$$

口答：一本笔记本比一个书包便宜 元。

- (3) 圈出你喜欢的两样物品，并计算一共要花多少元？（6分）

$$\square \bigcirc \square = \square \quad (\quad)$$

口答：一共要花 元。