

2022~2023 学年度下学期期末学业质量监测 三年级数学

(考试形式: 闭卷 考试时间: 90 分钟 满分 100 分)

题目	一	二	三	四	五	六	总分
得分							

一、正确填空。(25 分)

1. 地图通常是按上北下(), 左西右()绘制。
2. 2023 年是()年, 现在是()月, 这个月有()天。
3. 在()里填上合适的单位名称。

黑板的长是 4 ()
一枚 2 分硬币的质量约是 1 ()
手指甲的面积接近 1 ()
学校操场面积约 800 ()

4. 400 平方分米 = () 平方米 8 元 5 角 = () 元
36 个月 = () 年

5. 在 ○ 里填上 “>”、“<” 或 “=”。

24×0 ○ $0 \div 24$ 50 平方米 ○ 5 平方分米 7.6 ○ 6.7

6. 右图是春风饭店营业时间。上午 10:00 用 24 小时计时法表示是(), 晚上 9:00 用 24 小时计时法表示是(); 春风饭店全天共营业()小时。

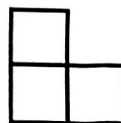
春风饭店营业时间
上午: 10:00—晚上: 9:00

7. $430 \div 5$ 的商的最高位在()上, 商是()位数。


8. 下面是四名同学参加 100 米跑的成绩, 跑得第一的是()

姓名	小涛	小明	小东	小军
成绩/秒	15.5	15.9	16.2	15.1


9. 右图是用 3 个 1 平方厘米的正方形拼成的图形。它的周长是()厘米, 面积是()平方厘米。




10. 在计算 14×12 时, 小顺同学是这样想的: $14 \times 10 = 140$, $14 \times 2 = 28$, $140 + 28 = 168$, 下面能表示他思考过程的图是()。



A.



B.



C.


11. 明明、小优、芳芳、小布四人每个人分别和冬奥会吉祥物冰墩墩、雪容融各拍一张照片, 他们一共要拍()张照片。

二、谨慎判断。对的在括号里画“√”，错的画“×”。(5分)


1. 56×40 的积与 560×4 的积相等。 ()
2. 边长是 4 分米的正方形，它的周长和面积相等。 ()
3. 无论平年还是闰年，7 月、8 月都是 31 天。 ()
4. 小数位数越多，小数越大。 ()
5. 计算 $60 \div 2$ 时，把 60 看作 6 个十，把它平均分成 2 份，每份是个 3 个十，也就是 30。 ()

三、慎重选择。将正确答案的字母标号填在括号里。(5分)

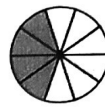
1. 6.30 读作 ()
A. 六点三十 B. 六点三零 C. 六点三
2. 25×80 积的末尾有 () 个 0。
A. 1 B. 2 C. 3
3. 下面的涂色部分的面积不能用 0.4 表示的是 ()。



A



B



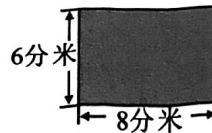
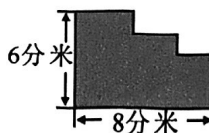
C

4. 有 84 本科普书，平均分给 4 个班，每个班分几本？
竖式中框起来的“8”，表示 ()。

- A. 先分掉的 8 本
- B. 每班分到的 8 本
- C. 先分掉的 80 本

$$\begin{array}{r} 21 \\ 4 \overline{) 84} \\ \underline{8} \\ 4 \\ \underline{4} \\ 0 \end{array}$$

5. 如图，关于两个图形的周长和面积，下面说法正确的是 ()。
A. 周长相等，面积不相等。
B. 周长不相等，面积相等。
C. 面积相等，周长也相等。



四、仔细计算。(26分)

1. 直接写得数。(10分)

$$\begin{array}{llllll} 32 \times 3 = & 0 \div 99 = & 14 \times 200 = & 450 \div 5 = & 35 \times 2 \times 5 = \\ 1.8 - 0.7 = & 6.4 + 2.3 = & 301 \times 6 \approx & 238 \div 4 \approx & 120 \div 3 \div 2 = \end{array}$$

2. 列竖式计算，带※的要验算。(7分)

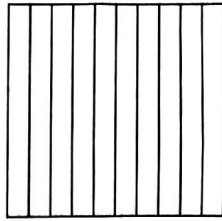
$$17 \times 25 = \quad 10 - 3.6 = \quad ※ 783 \div 6 =$$

3. 计算。(9分)


$$35 + 14 \div 7 \quad 35 \times (2.3 + 5.7) \quad 624 \div 6 \times 5$$

五、规范操作。（共 14 分）

1. 在图中画阴影表示小数 0.6。（2 分）



2. 下图中每个小方格边长都是 1 厘米，请你在图中画出一个面积为 12 平方厘米的长方形。并计算出它的周长。（4 分）



3. 下面是阳光小学三年级部分同学跳绳抽测情况统计表。（4 分）

性 别	人数	成绩			
		优	良	及格	不及格
男		5	10	1	2
女		9	7	2	0

(1) 一共检测了（ ）名同学。评为（ ）等级的同学最多。

(2) 比较男、女同学的成绩，（男 ☐ 女 ☐）同学跳绳的成绩整体情况好一些。（选择合适的答案在 ☐ 里打“√”）

(3) 对不及格的同学你有什么建议？

3. 方向我能辨得清。（4 分）


(1) 体育馆在公园的（ ）方向，公园在学校的（ ）面。

(2) 小红在家，她要先到公园，再去图书馆。可以从家出发，先向（ ）面走到公园，再向（ ）方向走到图书馆。



六、解决问题。(25分)

1. 最是书香能致远，用心阅读添光彩。学校阅读节，小林买了下面两本书，小林一共用去多少钱？(5分)



2. 为提高身体素质，增强团队凝聚力。幸福小学组织气排球比赛，学校体育组将参加气排球比赛的所有队员分成8个大组，每个大组再分成4个小组，每个小组有7人，参赛队员一共有多少人？(5分)

3. 为落实教育部大力倡导中小学生“爱读书，读好书”。学校购买了一批书，平均每个书架每层放多少本书？(5分)



4. 为营造尊重、理解、感恩班主任的和谐氛围，学校将在第三届班主任节活动中布置“班主任肖像画”的展示墙，墙长9米、宽3米，每幅画是边长为3分米的正方形，一共可以展示多少幅画？(5分)

5. 邓奶奶用30米的篱笆围了一个一面是墙，三面是篱笆的长方形菜地(如图)。这块菜地的面积是多少平方米？(5分)

