

## 2023年春季学期数学二年级综合练习题(二)

### 一、算一算(26分)

#### 1. 直接写出得数(10分)

$$\begin{array}{ccccc} 4 \times 9 = & 970 - 800 = & 73 - 38 = & 32 \div 8 = & 47 \div 9 = \\ 6 \times 8 = & 80 + 650 = & 400 - 70 = & 59 \div 8 = & 50 \div 6 = \end{array}$$

#### 2. 竖式计算(最后一题要验算, 10分)

$$\begin{array}{cccc} 66 \div 9 & 275 + 509 & 638 + 196 & 720 - 564 \end{array}$$

#### 3. 递等式计算(6分)

$$852 - (298 + 431)$$

$$713 - 336 + 275$$

### 二、填一填(32分)

1. 903是由( )个百和( )个( )组成。

2. 5米=( )分米      6千克=( )克

1米3分米=( )厘米      700厘米=( )米

3. ( )里最大能填几?

$$39 > ( ) \times 5 \quad ( ) \times 8 < 38 \quad ( ) \times 9 < 57$$

4. 在( )里填上合适的单位。

(1) 小丽的体重是38( ), 她的身高是135( )。

(2) 小红在十字路口等红灯用了20( ), 做一套广播操用了5( ), 看一场电影用了2( )。

5. 根据算式  $341 - 230 = 111$ , 在下面的横线上写一道加法算式和一道减法算式。

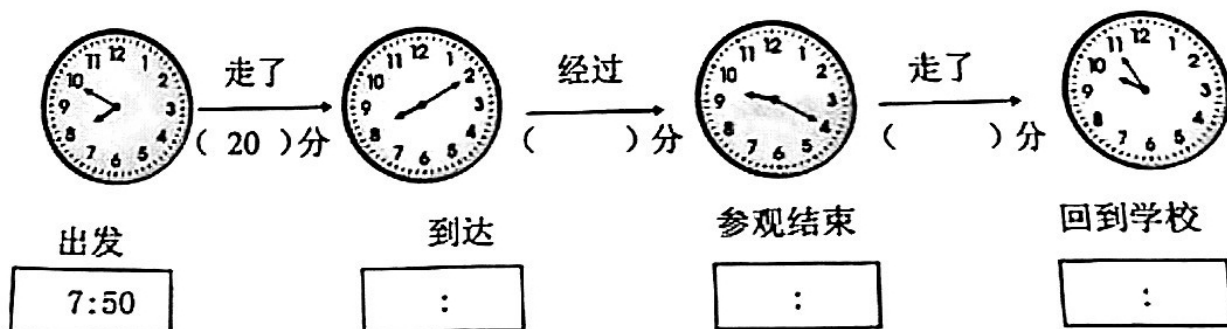
6. 在  里填上合适的数字。

$5 \square 7 < 523$

$706 > \square 01$

$43 \square > 435$

7. 参观展览。



8. 用 3、8、9 三个数字, 可以组成 ( ) 个三位数, 其中最大的是 ( )。

9. 红红、丫丫和丽丽 3 个人进行踢毽子比赛, 结果可能有 ( ) 种。在横线上写出所有的结果。

红红第一、丫丫第二、丽丽第三 \_\_\_\_\_; 红红第一、丽丽第二、丫丫第三 \_\_\_\_\_;  
 \_\_\_\_\_;  
 \_\_\_\_\_;

10. 亮亮和聪聪比赛跳绳, 亮亮 1 分钟跳了 80 下, 聪聪 30 秒跳了 38 下, ( ) 跳得慢。

### 三、选一选 (选择正确答案的序号填在括号里, 10 分)

1. 用下面哪根小棒可以把右边的图形拼成一个长方形。 ( )

① 4 厘米

② 6 厘米

③ 7 厘米




2. 右边正方形被挡住的角是 ( )。

① 锐角

② 钝角

③ 直角



3. 最大的三位数比最小的四位数少 ( )。

① 100

② 1

③ 10


大约有多少只蝴蝶？（ ）

10只

①大约有 150 只

②大约有 50 只

③大约有 1000 只



5. 如下图，把 3 根不同长度的钢筋焊接在一起。焊接在一起的钢筋长（ ）厘米。

①77

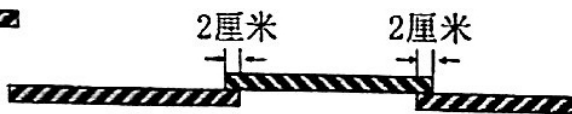
30厘米

②75

27厘米

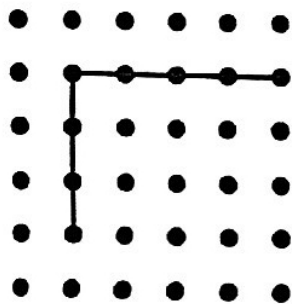
③73

20厘米

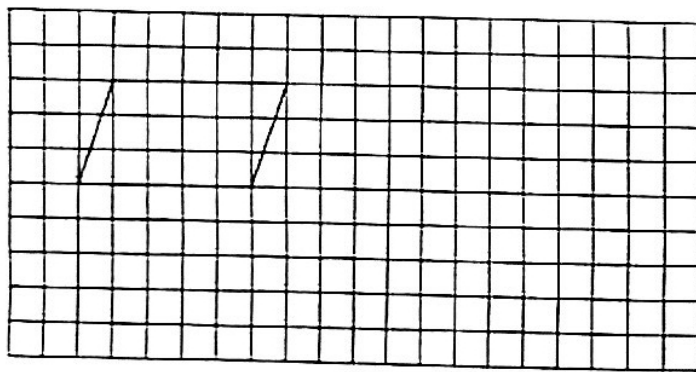


#### 四、画一画（4 分）

1. 接着画一个长方形。




2. 在方格纸上画一个大一点的平行四边形。



#### 五、走进生活，解决问题。（28 分）

1. 买一套书，50 元够吗？

一套书有6本，每本8元。




口答：买一套书，50 元（ ）。

2. 至少需要几张桌子?



口答: 至少需要 ( ) 张桌子。

3. 用 1000 元买这两种电器, 还剩多少元?



口答: 还剩 ( ) 元。

4. 上午孵出了 356 只小鸡, 下午比上午多孵出 87 只小鸡。

(1) 下午孵出多少只小鸡?



口答: 下午孵出 ( ) 只小鸡。

(2) 还有多少个鸡蛋没有孵出小鸡?

口答: 还有 ( ) 个鸡蛋没有孵出小鸡。

5. 张叔叔的水果店二月份进了 109 箱苹果, 根据每年的经验, 三月份要比二月份少进 28 箱苹果。两个月一共进了多少箱苹果?

口答: 两个月一共进了 ( ) 箱苹果。