

2023 年春季学期一年级数学综合巩固练习（二）

一、算一算（24 分）

1. 直接写出得数。（12 分）

$9+16=$

$65-50=$

$25+35=$

$19+10-7=$

$88-80=$

$57-7=$

$28+27=$

$3\text{ 角}+5\text{ 角}=$

$20+37=$

$96-60=$

$77+9=$

$2\text{ 元}-10\text{ 角}=$

2. 用竖式计算。（12 分）

$79-48=$

$45+33=$

$86-29=$

$53+37=$

二、填一填（29 分）

1. 95 读作：（ ）；六十八写作：（ ）。

2. 57 里面有（ ）个十和（ ）个一。

3. 一个两位数，个位上是 8，十位上比个位上的数小 5，这个数是（ ），读作（ ）。

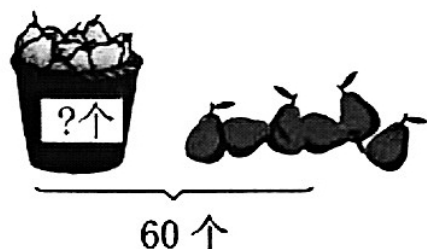
4. 在 53、36、49、77、90、81 这几个数中，最小的是（ ），最接近 50 的是（ ），最接近 80 的是（ ）。

5. 如右图，东东晚上（ ）时开始睡觉，妈妈比东东晚睡一个小时，妈妈开始睡觉的时间是（ ）。



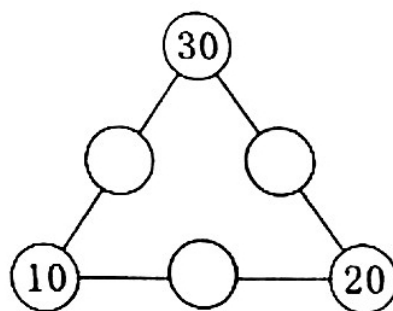
6. 20 分 = () 角 5 元 = () 角

7. 看图列式计算。(2 分)




$$\square \bigcirc \square = \square \text{ (个)}$$

8. 把 30、40、50 填在 \bigcirc 里，使每条线上的三个数相加都等于 80。



9. 数一数，填一填。(8 分)

\square	() 个	\square	() 个
\bigcirc	() 个	\triangle	() 个



10. 如下图。白色珠子有 () 颗，黑色珠子有 () 颗，一共有 () 颗珠子。按这个规律，右边下一个应该串 () 色的珠子。




三、选一选。(将正确答案的序号填在括号里。每小题 2 分，共 10 分)

1. 下面算式中，得数的十位上是 8 的是 ()。

① $34 + 56 =$

② $53 + 25 =$

③ $62 + 27 =$

2. 妈妈要买一件 68 元的裙子，如果全付 ，至少需要付 () 张。

① 6

② 7

③ 8

3. 用同样长的小棒摆两个三角形，最少要用（ ）根小棒。

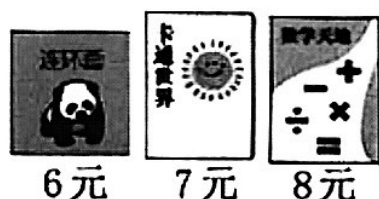
- ① 4 ② 5 ③ 6

4. 学校图书室新购进了 18 套《故事书》，购进的《科技书》比《故事书》的多得多，购进的《科技书》可能有（ ）套。

- ① 50 ② 22 ③ 16

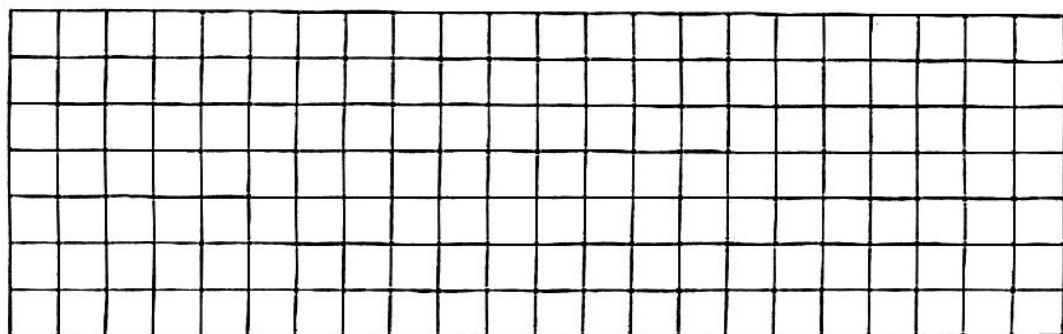
5. 丫丫要买右下图中的其中两本书，至少要花（ ）元。

- ① 6 ② 13 ③ 15




四、动手操作（共 12 分）

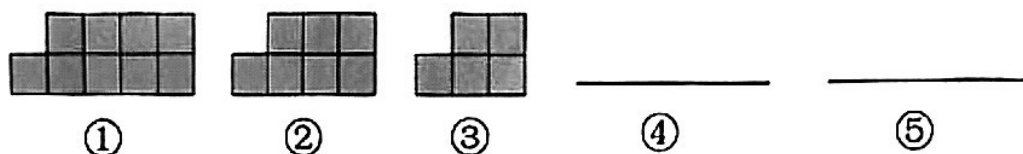
1. 在方格纸上画一个长方形、一个正方形和一个三角形。（6 分）



2. 根据规律，画出最后一个钟面的时针和分针。（2 分）



3. 找规律，画图。（4 分）



五、解决生活中的问题。(25分)

1. 丫丫和亮亮共有多少张邮票?

我有28张奥运纪念邮票。

我也有28张

$$\square \bigcirc \square = \square \text{ (张)}$$



2. 运走了多少箱?

$$\square \bigcirc \square = \square \text{ (箱)}$$



3. 小美看一本书, 还有38页没有看完。这本书一共有多少页?

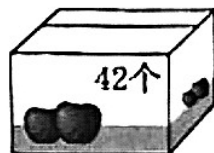


我已经看了26页。

$$\square \bigcirc \square = \square \text{ (页)}$$

4. 妈妈买来一箱苹果, 吃了3天后还剩下30个。一共吃了多少个苹果?

$$\square \bigcirc \square = \square \text{ (个)}$$



5. 还缺多少把椅子?

$$\square \bigcirc \square = \square \text{ (把)}$$



2023 年春季学期一年级数学综合巩固练习（二）

参考答案与评分标准

一、算一算。（24 分）

1. 直接写出得数。（每小题 1 分，共 12 分）

25 15 60 22 8 50

55 8 角 57 36 86 10 角（或 1 元）

2. 用竖式计算。（每小题 3 分，其中竖式计算 2 分，写横式结果 1 分，共 12 分；竖式略） 横式答案： 31 78 57 90

二、填一填。（29 分）

1. 九十五 68 （2 分）

2. 5 7 （1 分）

3. 38 三十八 （2 分）

4. 36 49 81 （3 分）

5. 9 10 时 （2 分）

6. 2 50 （2 分）

7. $60-6=54$ （2 分）

8. 略 （3 分）

9. 4 6 6 2 （8 分）

10. 18 17 35 黑 （4 分）

三、选一选。（每小题 2 分，共 10 分）

1. ③ 2. ② 3. ② 4. ① 5. ②

四、动手操作。(12分)

1. (每个图2分,共6分) 图略

2. (2分) 图略

3. (每个图2分,共4分) 图略

五、解决生活中的问题。(每小题5分:列式3分,计算2分;
共25分)

1. $28 + 28 = 56$ (张)

2. $85 - 9 = 76$ (箱)

3. $26 + 38 = 64$ (页) (列式不唯一)

4. $42 - 30 = 12$ (个)

5. $45 - 27 = 18$ (把)