

# 2022~2023 学年下学期随堂作业练习

## 二年级 数学

(全卷共五大题, 共2页; 满分100分)

姓 名																
学 校																
考场号:			座位号:													
准考证号:																
正确填涂示例 ■	注 意 事 项		1. 答题前, 同学们先将自己的姓名、学校、考场号、座位号等填写清楚。 2. 用铅笔书写, 请按题号顺序在答题区域内作答, 超出红色答题区域的答案无效。 3. 字迹工整, 填涂规范, 保持卷面清洁, 不要折叠、不要弄破、弄皱。													
缺考标记 <input type="checkbox"/>																

贴 条 形 码 区

条形码由监考教师粘贴

### 一、填空题。(每空1分, 共22分)

- 把28个苹果平均放在4个盘子里, 每个盘子放( )个,  
列式为( ), 计算时用到的口诀是( ),  
根据这句口诀再写出一道除法算式是( )。
- 计算 $(70-46) \div 4$ 时, 应先算( )法, 再算( )法。
- 把 $3 \times 3 = 9$ 和 $72 \div 9 = 8$ 合并成一道综合算式是( )。
- 一个数由3个千、9个十和9个一组成, 这个数写作( ),  
读作( ), 它的最高位是( )位, 与  
它相邻的两个数是( )和( )。
- 里最大能填几?  
 $4 \times \square < 36$                        $5350 > 5 \square 15$
- 在括号里填上合适的质量单位。



3 ( )



200 ( )


- 在算式 $\star \div \triangle = 7 \cdots \cdots 6$ 中,  $\triangle$ 最小是( ), 这时 $\star$ 是( )。

8. 10000 里面有 ( ) 个千, 680 里面有 ( ) 个十。

9. 在下面括号里填“平移”或“旋转”。



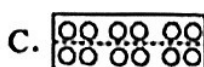
( )



( )

二、选择题。(每小题 2 分, 共 10 分)

10. 下面几种分法不是平均分的是 ( )。



11. 有 47 颗糖果, 最少拿出 ( ) 颗后, 正好可以平均分给 5 个小朋友。

A. 2

B. 3

C. 7

12. 下面的数一个零也不读的是 ( )。

A. 7020

B. 7200

C. 7002

13. 下面选项 ( ) 是准确数。

A. 某镇有小轿车 6000 辆左右。

B. 桂花江大桥全长 1600 多米。

C. 参加这次会议的人有 1275 名。

14. 4 元钱可以买 500 克苹果, 妈妈买了 2 千克苹果, 要付 ( ) 元。

A. 2

B. 8

C. 16

三、计算题。(共 32 分)

15. 直接写出得数。(每题 1 分, 共 14 分)

$4 \times 3 =$

$35 \div 5 =$

$13 \div 3 =$

$40 \div 8 =$

$54 \div 6 =$

$21 \div 9 =$

$800 + 600 =$

$3000 + 300 =$

$5900 - 900 =$

$1000 - 400 =$

$0 \times 6 \div 2 =$

$81 \div 9 \div 3 =$

$1200 \text{ 克} + 800 \text{ 克} = ( \quad ) \text{ 千克}$

$9000 \text{ 克} - 6 \text{ 千克} = ( \quad ) \text{ 克}$

16. 列竖式计算。(每题2分,共4分)

$61 \div 9 =$

$38 \div 4 =$

17. 混合运算。(每题2分,共8分)

$50 + 40 - 72$

$33 - 4 \times 4$

 $=$  $=$  $=$  $=$ 

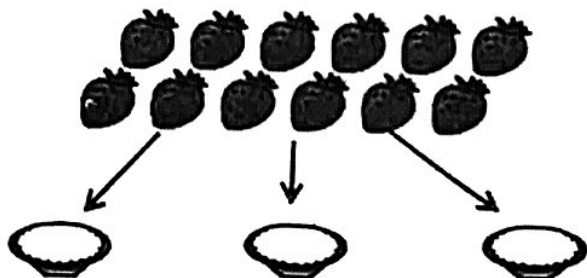
$5 \times (23 - 17)$

$(61 - 34) \div 3$

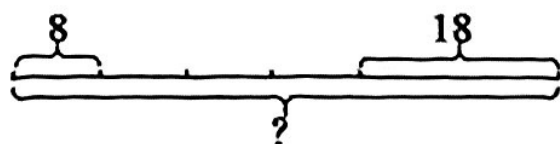
 $=$  $=$  $=$  $=$ 

18. 看图列式计算。(共6分)

(1) (3分)

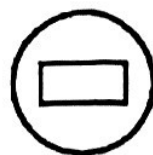


(2) (3分)



#### 四、操作题。(共12分)

19. 小林用一张圆形纸片如左图对折后剪出一个图案。展开后，应该是哪一个？在正确的图案下画“√” (2分)



20. 下面是小明统计的二(1)班同学最喜欢吃水果的人数。记录结果如下。(每人只投一票)

苹果：正正下

西瓜：正正正正

草莓：正正

香蕉：正下

- (1) 把小明的统计结果填在下表中。(4分)

水果	苹果	西瓜	草莓	香蕉
人数				

- (2) 二年级(1)班一共有( )人，最喜欢吃( )的人最多，最喜欢吃( )的人最少，最喜欢吃西瓜的比最喜欢吃苹果的多( )人。(4分)

- (3) 班里要开联欢会，根据调查结果，买什么水果更合理？(2分)

五、解决问题（共 24 分）

21. 学校进行体操比赛，二（1）班有 48 位同学参加，他们平均站成 8 队，每队站几位同学？（4 分）

答：每队站（        ）位同学。

22. 27 个梨，每个盘子放 6 个，要准备多少个盘子才能全部放完？（4 分）

答：要准备（        ）个盘子才能全部放完。

23. 文文和她的 3 个好朋友每人折了 9 只纸鹤，送给幼儿园的小朋友 19 只，还剩多少只？（4 分）

答：还剩（        ）只。

24. (1) 根据条件把电器名称填入表格内。(3分)



电视机的价钱是最便宜的，空调的价钱比冰箱贵。

价钱	2099	998	2950
电器名称			

(2) 妈妈想买一台电视机和一台空调，4000元够吗？(4分)

答：( )。

25. 施工队要挖一条长60米的沟渠，已经挖了24米，剩下的计划4天挖完，平均每天要挖多少米才能完成任务？(5分)

答：平均每天要挖( )米才能完成任务。

请在各题目的答题区域内作答，超出红色答题区域的答案无效