

2022~2023 学年度下学期小学一年级学业水平检测

数 学 试 卷

(测试时间: 60 分钟)

一、算一算, 填一填。

$13-8=$

$7+6=$

$30+24=$

$71-50=$

$50+6=$

$20+40=$

$7+\square=87$

$32-\square=30$

$34+20+9=$

$19-(9-5)=$

$54+6-60=$

$26-9-3=$


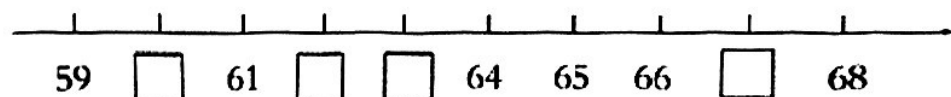
$56-8+7=$

$58-(8+2)=$

$30+(50-5)=$

$43-(3+27)=$

二、填一填。



它是由()个十和()个一组成的。

3. 一个一个地数, 从 77 到 83, 一共数了()个数。

4. 10 个十是(), 最大的两位数是(), 它们相差()。

5. 在 \bigcirc 里填上 “>” “<” 或 “=”。


$66-60 \bigcirc 63$

$48-7 \bigcirc 48-9$


$43+7 \bigcirc 7+43$

$7 \text{ 角}+9 \text{ 角} \bigcirc 1 \text{ 元 } 5 \text{ 角}$

6. 妈妈带了1张  去超市购物, 花了70元, 售货员阿姨

还应找回她()张  。


7.  缺了()块砖。

8. 有16个玻璃球  , 每5个放在一个盒子里, 可以放满()个盒子, 还剩()个玻璃球, 用你喜欢的方法表示出来, 画一画或算一算。

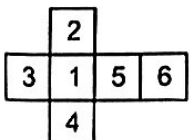

三、选一选, 把正确答案的序号填在()里。

1. 丁丁有30元钱, 方方的钱比丁丁少一些, 方方可能有()元。


- ①35元 ②10元 ③28元

2. 能用  画出的图形是()。

- ①  ②  ③  ④ 

3. 用  做成一个  , 数字“3”对面是()。

- ①1 ②5 ③4

4. 一串珠子  中间是遮住的图形是()。

- ①  ②  ③ 

5. 小红家养了24只鸡, _____, 母鸡有几只? 缺少的条件是()。

- ①兔子有8只 ②公鸡有9只 ③卖掉了20只鸡

2. 图书角一共有 96 本书，昨天借出了 30 本，图书角还剩多少本书？



$$\square \bigcirc \square = \square \text{ (本)}$$

答：图书角还剩 () 本书。

3.



3 箱一共有多少袋牛奶？

$$\square \bigcirc \square \bigcirc \square = \square \text{ (袋)}$$

答：3 箱一共有 () 袋牛奶。

4. 公交车上原来有 34 人，先下去了 8 人，接着又上来了 4 人。现在公交车上有多少人？



$$\square \bigcirc \square \bigcirc \square = \square \text{ (人)}$$

答：现在公交车上有 () 人。

5.

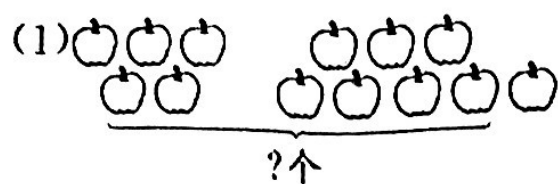


铅笔比水性笔多多少支？

$$\square \bigcirc \square = \square \text{ (支)}$$

答：铅笔比水性笔多 () 支。

四、看图列式计算。



$$\square \bigcirc \square = \square (\text{个})$$



$$\square \bigcirc \square = \square (\text{颗})$$

五、操作题。

1.数一数，再涂一涂，填一填。

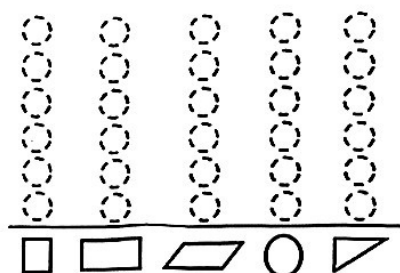



图 形					
数量 (个)					

2.数量最多的图形是 ()，数量最少的图形是 ()。

六、解决问题。

1.青蛙是庄稼的好朋友，它们一共吃了多少只害虫？

$$\square \bigcirc \square = \square (\text{只})$$

答：它们一共吃了 () 只害虫。

