

# 一年级下册期末学科素养与评估

## 数学 答题卡


### 注意事项:




- 答题前,考生务必用黑色字迹的钢笔或签字笔将自己的学校、班级、姓名、考生号、考场号、考场座号,填写在答题卡相应位置上,并用2B铅笔在答题卡“考场号”、“考场座号”栏涂上自己的考场号和考场座号。
- 选择题必须使用2B铅笔填涂;非选择题必须用黑色字迹或钢笔作答,字迹工整。
- 请按题号顺序在各题的答题区内作答,超出范围的答案无效,在试卷、草稿纸上作答无效。
- 缺考标记:考生禁填,由监考老师负责用2B铅笔填涂。缺考标记由监考员填写

### 考号填涂区

[0]	[0]	[0]	[0]	[0]	[0]
[1]	[1]	[1]	[1]	[1]	[1]
[2]	[2]	[2]	[2]	[2]	[2]
[3]	[3]	[3]	[3]	[3]	[3]
[4]	[4]	[4]	[4]	[4]	[4]
[5]	[5]	[5]	[5]	[5]	[5]
[6]	[6]	[6]	[6]	[6]	[6]
[7]	[7]	[7]	[7]	[7]	[7]
[8]	[8]	[8]	[8]	[8]	[8]
[9]	[9]	[9]	[9]	[9]	[9]

粘贴条码区

正确填涂: 

错误填涂:   

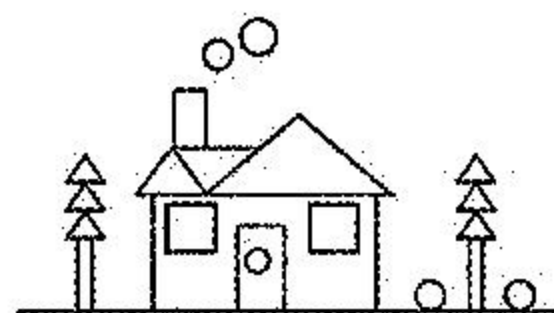
请在各题目的答题区内作答,超出黑色矩形边框限定区域的答案无效

### 一、填空题。(36☆)

1. 填上合适的数。



2. 我会数。



	正方形	圆	长方形	三角形
个数	( )	( )	( )	( )


3.



我的个位上是6,十位上是1。

猜一猜,它代表( )。

4. 将对应的序号填在下面的圈里。





文具

玩具

请在各题目的答题区域内作答,超出黑色矩形边框限定区域的答案无效


请在各题目的答题区内作答,超出黑色矩形边框限定区域的答案无效

5. 一张  可以换( )张 .

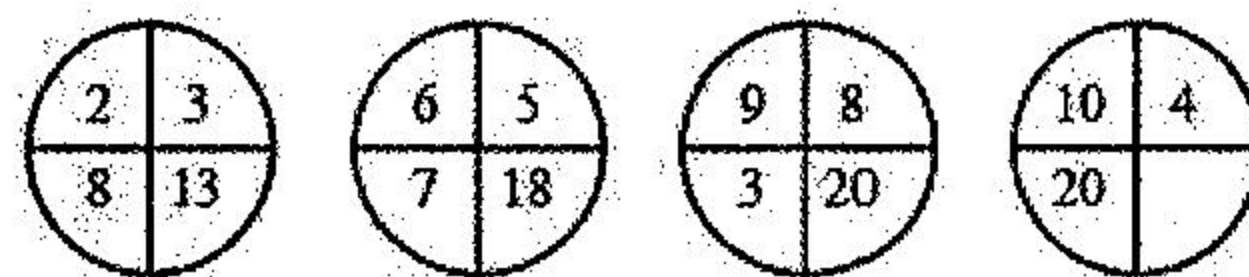
6. 在○里填上“>”“<”或“=”。

$$42 \bigcirc 39 \quad 57+3 \bigcirc 59 \quad 6 \text{元} 8 \text{角} \bigcirc 8 \text{元} 6 \text{角}$$

$$16-8 \bigcirc 7 \quad 66-20 \bigcirc 56-10 \quad 30 \text{角} \bigcirc 5 \text{元}$$

7. 篮子里有32个 , 每10个装一盘, 最多可以装满( )盘。


8. 找规律, 填一填。



### 二、选择题。(10☆)

1. 下面( )和其它三个不是一类的。



2. 用11根同样长的小棒摆一个 , 还剩( )根小棒。

A. 5 B. 6 C. 7

3.



我采了69个松果。

我采的比你多一些。猜一猜, 我可能采了多少个松果?



( )

A. 50 B. 75 C. 91

4.             横线  
上应摆( )。

A.  B.  C.  D. 

5. 妈妈买了一件衣服, 付了一张 、一张  和6张



, 这件衣服的价钱是( )元。

A. 76 B. 58 C. 13







请在各题目的答题区域内作答,超出黑色矩形边框限定区域的答案无效

请在各题目的答题区域内作答，超出黑色矩形边框限定区域的答案无效

### 三、计算题。(20☆)



$20+8=$	$15-8=$	$35+6=$	$68-4=$	$9+9+9=$
$15-9=$	$56+6=$	$13-8=$	$87-60=$	$86-6-50=$
$53+7=$	$38+50=$	$42-5=$	$69+6=$	$62-(8+12)=$
$5+28=$	$80-5=$	$35+0=$	$50+16=$	$46-(11-7)=$

### 四、连线题。(6☆)

					
$40+28$	$85-5$	$57-8$	$8+45$	$72-6$	$91+8$

					
---	---	---	---	--	---

### 五、看图列式计算。(8☆)

 <p>8元      37元</p> <p>?元</p> <p><math>\square \bigcirc \square = \square</math> (元)</p>	 <p>? 个</p> <p>23 个</p> <p><math>\square \bigcirc \square = \square</math> (个)</p>
---	--

请在各题目的答题区域内作答，超出黑色矩形边框限定区域的答案无效

请在各题目的答题区域内作答，超出黑色矩形边框限定区域的答案无效

### 六、解决问题。(20☆)





#### 1. 小天有多少本书?

我们一共有16本书，其中故事书有8本。

我有7本

小天      小丽

#### 2. 买一个 和一个 一共要多少钱?

			
1元5角	29元	10元	8角

#### 3. 兔比鸡少几只?

小红家养了23只鸡和7只兔。



#### 4.

做了34件上衣和20条裤子。

还要做几条裤子才能和上衣配套?



请在各题目的答题区域内作答，超出黑色矩形边框限定区域的答案无效