

学 校 班 级 姓 名 题 答 要 不 内 线 封 密

# 二年级下册期末学科素养与评估

## 数学 答题卡

### 注意事项:

1. 答题前, 考生务必用黑色字迹的钢笔或签字笔将自己的学校、班级、姓名、考生号、考场号、考场座号, 填写在答题卡相应位置上, 并用 2B 铅笔在答题卡“考场号”“考场座号”栏涂上自己的考场号和考场座号。
2. 选择题必须使用 2B 铅笔填涂; 非选择题必须用黑色字迹或钢笔作答, 字迹工整。
3. 请按题号顺序在各题的答题区内作答, 超出范围的答案无效, 在试卷、草稿纸上作答无效。
4. 缺考标记: 考生禁填, 由监考老师负责用 2B 铅笔填涂。缺考 ☐ 缺考信息由监考员填写 标记 ☐

### 考号填涂区

[0]	[0]	[0]	[0]	[0]	[0]
[1]	[1]	[1]	[1]	[1]	[1]
[2]	[2]	[2]	[2]	[2]	[2]
[3]	[3]	[3]	[3]	[3]	[3]
[4]	[4]	[4]	[4]	[4]	[4]
[5]	[5]	[5]	[5]	[5]	[5]
[6]	[6]	[6]	[6]	[6]	[6]
[7]	[7]	[7]	[7]	[7]	[7]
[8]	[8]	[8]	[8]	[8]	[8]
[9]	[9]	[9]	[9]	[9]	[9]

粘贴条码区

正确填涂:

错误填涂:

请在各题目的答题区域内作答, 超出黑色矩形边框限定区域的答案无效

### 一、填空题。(34☆)

1. 一共有 12 只虾, 每 3 只虾为一份, 一共有( )份。



2. 48 里面有( )个 6, 从 56 里面连续减 8, 减( )次后结果是 0。

3. 下面现象是平移的在括号里画“△”, 是旋转的在括号里画“○”。



4.  $2 \times 3 = 6$ ,  $30 \div 6 = 5$ , 请列出综合算式( )。

5. 二(2)班 3 名同学进行投篮比赛, 每人投 20 个。下面是 3 名同学投中个数统计的结果。

小明:

小强: 正正正一

小兵:

( )投中的个数最多, ( )投中的个数最少。

6. 写作: ( ) 读作: ( )

请在各题目的答题区域内作答, 超出黑色矩形边框限定区域的答案无效

请在各题目的答题区域内作答, 超出黑色矩形边框限定区域的答案无效

7. 在○里填上“>”“<”或“=”。

$$81 \div 9 \bigcirc 48 \div 8$$

$$4598 \bigcirc 4589$$

$$72 - (38 + 24) \bigcirc 6 \times (21 - 19)$$

$$3 \text{ 千克} \bigcirc 900 \text{ 克}$$

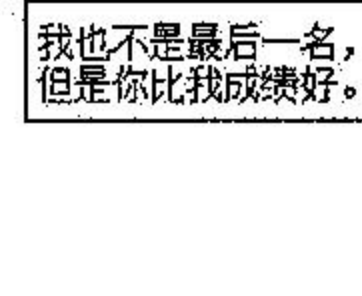
8. 在括号里填上合适的质量单位。



5 ( )


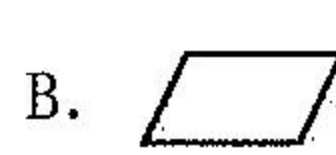
10 ( )

9. 小松、小刚、小明三人比赛 100 米跑。三人中, 第一名是( )。



### 二、选择题。(10☆)

1. 下面不是轴对称图形的是( )。



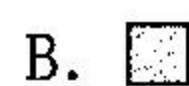
2.  $35 \div 5$  用哪句口诀求商?( )

A. 四七二十八

B. 五七三十五

C. 七五三十五

3. 如图: 按照这个规律, 第 15 个图形是( )。



C.

4. 下面各数中, 最接近 5000 的是( )。

A. 4999

B. 5009

C. 5999

5. 已知小狗重 12 千克, 则每只小松鼠重( )千克。



A. 6

B. 3

C. 2

请在各题目的答题区域内作答, 超出黑色矩形边框限定区域的答案无效



请在各题目的答题区域内作答，超出黑色矩形边框限定区域的答案无效

### 三、计算题。(8+8+12=28☆)

#### 1. 口算。

$9 \times 9 =$	$120 - 70 =$	$30 \div 5 =$	$700 + 900 =$
$54 \div 9 =$	$560 + 50 =$	$72 \div 8 =$	$6000 - 4000 =$

#### 2. 列竖式计算。













$29 \div 3 =$	$50 \div 6 =$	$62 \div 7 =$	$59 \div 9 =$
---------------	---------------	---------------	---------------

#### 3. 脱式计算。

$8 + 16 \div 4$	$6 \times (49 - 40)$	$81 \div 9 \div 3$	$7 \times (5 + 2)$
-----------------	----------------------	--------------------	--------------------

### 四、连线题。(8☆)

我会插花，连一连。


 $27 \div 3 =$	 $45 \div 9 =$	 $32 \div 4 =$	 $32 \div 8 =$
 $27 \div 3 =$	 $45 \div 9 =$	 $32 \div 4 =$	 $32 \div 8 =$
 $35 \div 7 =$	 $35 \div 5 =$	 $27 \div 9 =$	 $45 \div 5 =$

请在各题目的答题区域内作答，超出黑色矩形边框限定区域的答案无效

请在各题目的答题区域内作答，超出黑色矩形边框限定区域的答案无效

### 五、解决问题。(20☆)

1. 阳光小学二年级线描社团有24人，如果每4人用1张桌子，需要几张桌子？



2. 二(1)班46名同学坐面包车去公园游玩，至少需要几辆车？

每辆车限乘8人



3. 卡车比火车每分钟少行多少米？

每分钟行800米。



每分钟行1500米。



- 4.

小红



我们家原来有25只兔子，又买了15只。

一共有8个笼子。平均每个笼子放几只？



小明

请在各题目的答题区域内作答，超出黑色矩形边框限定区域的答案无效