

2023年春季末质量监测试卷
四年级数学

姓名：_____ 班级：_____

考场/座位号：_____

注意事项

- 答题前请将姓名、班级、考场、准考证号填写清楚。
- 客观题答题，必须使用2B铅笔填涂；修改时用橡皮擦干净。
- 主观题答题，必须使用黑色签字笔书写。
- 必须在题号对应的答题区域内作答，超出答题区域书写无效。
- 保持答卷清洁、完整。

正确填涂 ☒ 缺考标记 ☐

准考证号											
[0]	[0]	[0]	[0]	[0]	[0]	[0]	[0]	[0]	[0]	[0]	[0]
[1]	[1]	[1]	[1]	[1]	[1]	[1]	[1]	[1]	[1]	[1]	[1]
[2]	[2]	[2]	[2]	[2]	[2]	[2]	[2]	[2]	[2]	[2]	[2]
[3]	[3]	[3]	[3]	[3]	[3]	[3]	[3]	[3]	[3]	[3]	[3]
[4]	[4]	[4]	[4]	[4]	[4]	[4]	[4]	[4]	[4]	[4]	[4]
[5]	[5]	[5]	[5]	[5]	[5]	[5]	[5]	[5]	[5]	[5]	[5]
[6]	[6]	[6]	[6]	[6]	[6]	[6]	[6]	[6]	[6]	[6]	[6]
[7]	[7]	[7]	[7]	[7]	[7]	[7]	[7]	[7]	[7]	[7]	[7]
[8]	[8]	[8]	[8]	[8]	[8]	[8]	[8]	[8]	[8]	[8]	[8]
[9]	[9]	[9]	[9]	[9]	[9]	[9]	[9]	[9]	[9]	[9]	[9]

客观题（11~15为判断题;16~20为单选题）

- 11 [T] [F] 14 [T] [F] 16 [A] [B] [C] 19 [A] [B] [C]
- 12 [T] [F] 15 [T] [F] 17 [A] [B] [C] 20 [A] [B] [C]
- 13 [T] [F] 18 [A] [B] [C]





一、用心填一填。（每空1分，共20分）

- 一个数个位是7，十分位是0，百分位是8，这个数写作（ ），计数单位是（ ），它有（ ）个这样的计数单位。
- 根据乘法运算律填空： $12\times 32=32\times (\quad)$ $404\times 25=400\times 25+(\quad)\times 25$
- 6米3厘米=（ ）米 4.04平方米=（ ）平方分米
7.05吨=（ ）千克 58千米7米=（ ）千米
- 在5.63、5.06、5.19、5.029中，最大的数是（ ），最小的数是（ ）。
- 一个等腰三角形的顶角是 40° ，这个等腰三角形的一个底角是（ ）；一个直角三角形中，最小的角是 40° ，另外一个锐角是（ ）。
- 第七次全国人口普查鄂州市总人口为1079353人，约为（ ）万人（保留一位小数）。
- 有两根长度分别是4cm和8cm的小棒，再添上一根小棒可以围成一个三角形，则这根小棒的长度最短是（ ）cm，最长是（ ）cm。（长度取整厘米数）。
- 用数字卡片 和小数点 ，能够组成（ ）个不同的小数（每张卡片都要用上且不重复），最大的与最小的相差（ ）。
- 已知4个数的平均数是86，去掉一个数后余下的数的平均数是91，去掉的数是（ ）。
- 在“学习强国”知识抢答比赛中，规定答对一道题得10分，答错一道题倒扣6分。小红共抢答10道，得了36分，她答对了（ ）道题。

二、静心辨一辨。（对的在对应涂黑区中涂“T”，错的在对应涂黑区中涂“F”，共10分）

- 小数近似数末尾的0可以去掉。（ ）
- $73\times 2-73=73\times (2-1)=73$ 。（ ）
- 小亮的身高是1.56 m，他蹚过平均水深1.2 m的小河，不会有危险。（ ）
- 大于0.32而小于0.34的小数只有一个。（ ）
- 平行四边形是轴对称图形。（ ）

三、精心选一选。（选择正确的选项涂在涂黑区对应的方框里，共10分）

- 下面的数中，最接近9的数是（ ）。
A.9.02 B.8.998 C.8.9
- 从右面观察 ，所看到的图形是（ ）。
A.  B.  C. 
- 下列各式简便计算错误的是（ ）。
A. $99\times 57=100\times 57-57$
B. $25\times 32\times 125=25\times 4+8\times 125$
C. $490\div 14=490\div 7\times 2$
- 小明在计算小数减法时，错把减数20.2看成了2.02，结果得到的差是32.6，正确的差是（ ）。
A.14.42 B.18.18 C.34.62
- 龟鹤同池，若水池里都是龟就多了12只脚，则水池里鹤有（ ）。
A.3只 B.6只 C.不能确定

四、细心算一算。（共22分）

21. 口算。（每题1分，共10分）
- | | | | | |
|------------------|--------------------|------------------|-----------------|----------------------------|
| $0.5\times 100=$ | $4.302\times 100=$ | $1-0.25=$ | $101\times 32=$ | $2.35-0.8-1.2=$ |
| $8\times 125=$ | $2.17+0.9=$ | $15\times 9+15=$ | $490\div 70=$ | $125\times 8+125\times 8=$ |

22. 脱式计算，能简算的要简算。（每题2分，12分）

$4300 \div 25 \div 4$

$21 \times (230 - 192 \div 4)$

$125 \times 24 \times 12$

$999 + 99 + 9 + 3$

$135 \times 99 + 135$

$25.8 - 3.97 + 4.2 + 13.97$

五、耐心画一画。（共7分）

23. 画出轴对称图形的另一半。（3分）

24. (1) 画出下图三角形指定底边上的高。（2分）

(2) $\angle 1 = (\quad)$ 。（2分）

六、巧心用一用。（第25题6分，26—30题每题5分，共31分）

25. 育才小学四年级两个班回收易拉罐情况如下表。

数量(个) \ 月份	四月	五月	六月	七月
四(1)班	23	25	26	34
四(2)班	24	26	28	32

育才小学四年级两个班回收易拉罐统计图

(1) 根据统计表，完成上面的复式条形统计图。（4分）

(2) 四(2)班四个月比四(1)班多回收（ ）个易拉罐，四(1)班平均每月回收（ ）个易拉罐。（2分）

26. 小乐买了面包和牛奶。他买面包的价钱比买牛奶少1.3元，他买面包用了多少元？如果付10元，要找回多少钱？



27. “冰墩墩”是2022年北京冬奥会的吉祥物。一个纸箱装有25个礼盒，每个礼盒装了24个“冰墩墩”，8个这样的纸箱一共可以装多少个“冰墩墩”？



28. 小明骑自行车从甲地到乙地用10分钟，平均每分钟行260米，返回时用了13分钟。小明返回时的平均速度是多少？

29. 为庆祝鄂州市建市40周年，工人师傅要安装1200盏路灯，3天安装了450盏，照这样计算，余下的还要几天才能安装完成？

30. 下图是某动物园售票处的价格公示牌。现有成人4人，儿童7人一起去动物园游玩，怎么买门票最省钱？最少花多少钱？

票价	
成人	150元/人
儿童	60元/人
团体(5人及以上)	100元/人