

印江自治县 2022—2023 学年度第二学期期末练习

一年级数学试卷

姓名: _____

考号: _____

注意事项:

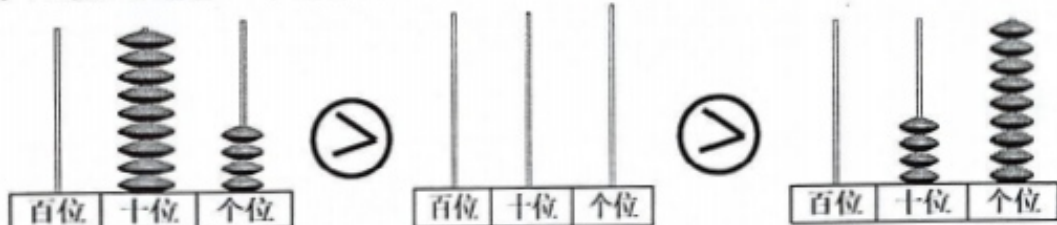
1. 练习时间 90 分钟, 卷面分值 100 分。

2. 请将答题内容填写在答题方框内, 否则为无效答题。

贴条形码区








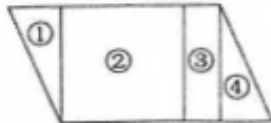
一、按大小比较画出第 2 个计数器上你心中的数, 并写出计数器上的数 (共 4 分)

1.



写作: _____

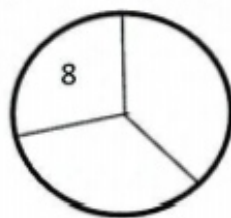
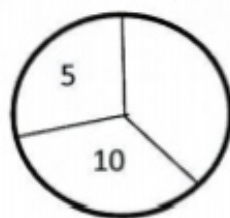
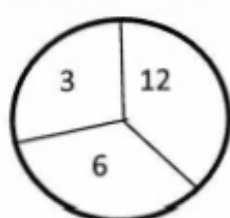
二、开动你的小脑筋, 完成下列填空题。 (共 33 分, 每空 1 分)

- 最小的两位数是 (), 再加上 () 就是最大的两位数。
- 90 个一是 (), 比 100 小 () 个十。
- 一张 10 元的人民币可以换成 () 张 1 元的人民币; 一张 100 元的人民币可以换成 () 张 10 元的人民币。
- 一个两位数, 十位上是 5, 个位上的数字比十位上的数字小 2, 这个数是 ()。
- 有 22 个苹果, 每 5 个装一袋, 可以装满 () 袋, 还剩 () 个。
- 人民币的单位有 ()、()、()。目前最大面额的人民币是 ()。
- 66 是 () 位数, 左边的 6 表示 () 个 ()。
- 小宇用  表示 10,  表示 1, 由   和    组成的数是 ()。
- 
 左边图形①是 _____ 形, 图形②是 _____ 形, 图形③是 _____ 形, 图形①②③④拼成的是 _____ 形。

11. 找规律填数

(1) 15、25、()、45、()、()、75

(2)



12. 在○里填上“>”“<”或“=”。

$50+27 \bigcirc 70$

$24+6 \bigcirc 30$

$59+20 \bigcirc 97$

$43-7 \bigcirc 70$

$2 \text{ 分} \bigcirc 2 \text{ 角}$

$3 \text{ 元 } 5 \text{ 角} \bigcirc 30 \text{ 角} + 5 \text{ 角}$

三、将正确答案的序号填在括号里。(共 10 分, 每小题 2 分)

13. 在计算 $68-(7+2)$ 时, 应该先算()。

① $68-7$

② $68+2$

③ $7+2$

14. 两个完全一样的正方形可以拼成一个()。

① 正方形

② 长方形

③ 圆

15. 5 元和 50 角比, ()。

① 50 角多

② 5 元多

③ 一样多

16. 东东买一个玩具, 他给售货员 10 元, 售货员找回他 2 元, 这个玩具的售价是()。

① 8 元

② 10 元

③ 12 元

17. 树上原来有 58 只鸟, 飞走了 40 只, _____? 列式计算是 $58-40=18$ (只)。

应补充的问题是()。

① 一共有多少只鸟

② 树上原来有多少只鸟

③ 树上还剩多少只鸟

四、把下列图形按你的分法, 将图形的序号填写在下面的 3 个筐里。(6 分)

18.



①



②



③



④



⑤



⑥



⑦



⑧



⑨



五、我相信你的判断，对的画√，错的画×。（共4分，每小题1分）

19. 有2个●可以摆成2个不同的数，分别是2和20。 ()

20. 2个2个地数，42后面第3个数是48。 ()

21. $25-20+5$ 与 $25-(20+5)$ 的计算结果相同。 ()

22. 比40多1的数就是比50小1的数。 ()

六、直接写出得数。（共14分）

① $90-30=$ ② $69-60=$ ③ $28-6=$ ④ $42+7=$ ⑤ $70+13=$

⑥ $46-20-6=$ ⑦ $27-7+5=$ ⑧ $72-2-30=$ ⑨ $58-(3+5)=$ ⑩ $13+(7+20)=$

⑪ 32.5元=()元()角 ⑫ 1元7角+8角=()元()角

七、解决问题。（共29分）

23. 幼小衔接活动时一(1)班和一(2)的同学共做了86件手工作品，送给幼儿园小朋友40件，还剩多少件？(3分)

24. 欣欣家楼上有5层，楼下有25层，欣欣家住多少层？(3分)

25. 一本书共79页，小军第一天读了28页，第二天比第一天多读了2页，两天共读了多少页？(4分)

26. 买东西。(11 分)



5 元



20 元 5 角



8 元



2 元

(1) 四种物品各买一件, 一共要花多少钱? (4 分)

(2) 至少要花多少钱才能买到两样东西? (3 分)

(3) 请你提出一个数学问题并解答。(4 分)

27. 服装厂做了 20 件上衣和 53 条裤子。服装厂还要做几件上衣才能和裤子配套? (4 分)



28. 有 30 个苹果, 请你选一个盒子装一装。我选的是 () 的盒子, 能装满几盒? (4 分)



7 个装
①号



8 个装
②号



9 个装
③号