

二年级 数学

一、我会选(将正确答案的序号填在括号里)。

1. 把 12 颗糖果,平均分给 3 个小朋友,分法正确的是()。



2. 下面三个数中,千位上是 2 的数是()。

A. 7201

B. 4205

C. 2003

3. 一台洗衣机的售价为 2998 元,约()元。

A. 2900

B. 2990

C. 3000

4. $21 \div 7 = 3$, 读作()。

A. 21 除 7 等于 3

B. 三七二十一

C. 21 除以 7 等于 3

5. 在算式 $\square \div 6 = 5 \cdots \triangle$ 中,余数最大时,被除数是()。

A. 34

B. 35

C. 36

6. 下面不能用乘法口诀“八九七十二”来计算的算式是()。

A. $54 \div 9$

B. $72 \div 8$

C. 9×8

7. 由 6 个一、4 个十、7 个百组成的数是()。

A. 647

B. 746

C. 607

8. 36 里面最多有 5 个()。

A. 5

B. 6

C. 7

9. 2 千克盐与 2000 克的糖相比较,()。

A. 盐重

B. 糖重

C. 一样重

10. 下面物体运动属于旋转现象的是()。



二、我会填。

11. 八千零五写作(), 3050 读作()。

12. 5809 是一个()位数,最高位是()位。

13. 一组图形的排列顺序是 $\square \bigcirc ? \triangle \square \bigcirc ? \triangle \cdots$, 那么第 25 个图形应该是()。

14. 在括号里填上“千克”或“克”。



4()



20()



1()

15. 有语文、数学、道德与法治三本书, 宁宁、小东、小亮各拿一本, 宁宁说: “我拿的是道德与法治书”。小东说: “我拿的不是语文书。”小亮拿的是()书, 小东拿的是()书。

三、我会判断。(对的打“√”错的打“×”)

16. 2 千克 40 克和 240 克一样重。 ()
 17. 一千一千地数, 10 个一千就是一万。 ()
 18. 在计算 5×8 和 $40 \div 8$ 时, 用到的口诀都是“五八四十”。 ()
 19. 算盘上的一颗上珠表示 1。 ()
 20. 3005 读作三千零零五。 ()
 21. 三位数 616 中, 两个“6”表示的意义相同。 ()
 22. 一个数千位上是 3, 十位和百位上都是 0, 个位上是 7, 这个数是 307。 ()
 23. 在计算 $(30 - 18) \div 3$ 时, 先计算“ $30 - 18$ ”。 ()
 24. 一只成年公鸡大约重 500 克。 ()
 25. $29 \div 4 = 6 \cdots 5$ ()

四、我会算。

26. 口算

$45 \div 9 =$

$8 \times 7 =$

$200 + 800 =$

$430 - 30 =$

$80 + 600 =$

$54 \div 6 =$

$70 + 90 =$

$1600 - 700 =$

27. \square 最大能填几。



$\times 7 < 45$

$46 > \square \times 9$

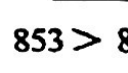


$36 \square < 364$



$\times 8 < 62$

$44 > \square \times 6$



$853 > 8 \square 9$

28. 请根据 $16 \div 3 = 5 \cdots 1$ 的除法竖式, 在 \square 里填上相应的数, 在()里写出每个数表示的意思。

		5	商
除数	\square	\square	\square 被除数
		15	()
		1	()

29. 列竖式计算

$54 \div 9 =$

$29 \div 4 =$

$45 \div 7 =$

$72 \div 8 =$

30. 脱式计算

$84 - (17 + 29)$

$8 \times (36 \div 4)$

$(46 + 18) \div 8$

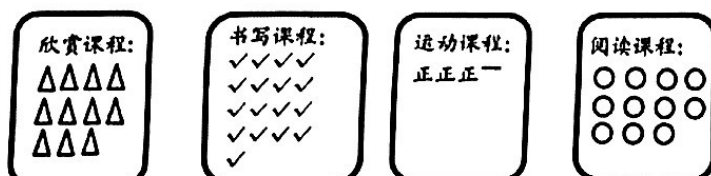
$46 + 24 - 36$

$54 \div 6 \times 7$

$49 \div (54 - 47)$

五、我会观察。

31. 二(1)班同学参加课后“4”项课程服务情况如下：



(1) 把上面的统计结果填在下表中。

课程服务	欣赏课程	书写课程	运动课程	阅读课程
人数(人)				

(2) 参加()课程的人数最多。

(3) 二(1)班参加课后“4”项课程服务的一共有()人。

六、我会解决问题。

32. 学校统一为二年级 7 个班的同学订购了 56 套《毒品预防教育读本》，平均每个班可以分得几套？

列式：

口答：平均每个班可以分得_____套。

33. 星星幼儿园原来有 24 个气球, 又买来了 48 个。将这些气球平均分给 8 名同学, 每个同学可以分得几个气球?

列式:

口答: 每个同学可以分得_____个气球。

34. 星期六爸爸、妈妈和小军到儿童乐园游玩, 一共要花多少钱?



列式:

口答: 一共要花_____元钱。

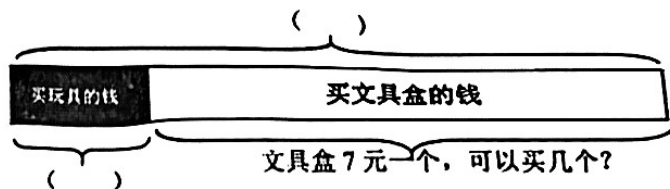
35. “大课间”时间有 35 名同学参加跳绳活动, 每 4 人一组, 可以分成几组? 还剩几人?

列式:

口答: 可以分成_____组, 还剩_____人。

36. 东东有 50 元钱, 买玩具用了 8 元, 如果用剩下的钱买 7 元一个的文具盒, 可以买几个?

(1) 将你思考的过程补充完整。



(2) 列式解答。

列式:

口答: 可以买_____个。