

一年级 数学

一、我会填。

1. 比 15 少 9 的数是(), 85 加上()是 90。

2. 根据右图填空。



这个数读作:(), 它由()个十和()个一组成。

3. 69 颗珠子, 每 10 颗 10 颗穿一串, 能穿()串, 还差()颗就可以再穿一串。

4. 4 元 6 角=()角 28 角=()元()角

5. 有 40 盒牛奶, 每组分 6 盒, 可以分给()组, 还剩()盒。

6. 在○里填上“<” “>”或“=”。

$$97-20 \bigcirc 77 \quad 63-9 \bigcirc 53 \quad 74-40-2 \bigcirc 22 \quad 65+8+5 \bigcirc 88$$

7. 把 6 个十和 8 个一合起来的数是()。

8. 35 连续加 3 个十是()。

9. 看图数一数, 填一填。



左边有()个十, 右边有()个十, 一共是()个十, 是一百。

10. 四十五是由()个十和()个一合起来的。

11. 找规律, 补充完整。

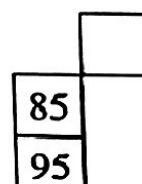
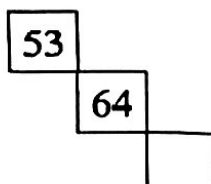
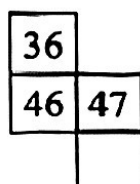
○○△ ○○○△△ _____

○○○○○○△△△△ ○○○○○○○△△△△△△ _____

12. 下面是 1~100 百数表的一部分。

1	2	3	4	5	6	7	8	9	10
11	12	13	14	15	16	17	18	19	20
21	22	23	24						

下面是从百数表中取出来的一些数, 请根据百数表的顺序, 在空格里填数。



二、我会算

13. 口算

$6+9=$

$12-5=$

$60-40=$

$65-5=$

$39+7=$

$70-9=$

$53+8=$

$24+5=$

14. 计算题

$64-9=$

$65-10+5=$

$65-8+20=$

$74-30-8=$

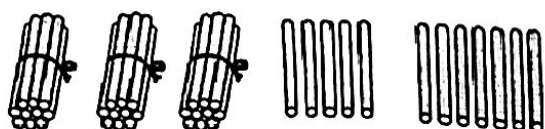
$85-(25-5)=$

$30+(27+9)=$

$25+50+8=$

$30+(44+6)=$

15. 先圈一圈, 再在 里填上合适的数。

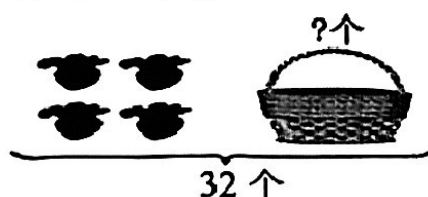


$35+7=$

先算 + =

再算 + =

16. 看图列式计算。



\bigcirc = (个)

三、操作题

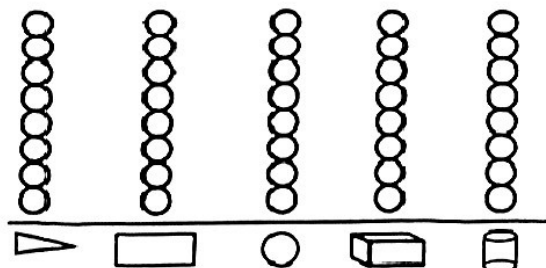
17. 分类整理下面的图形。



(1) 数一数, 填一填。

图形	三角形	长方形	圆	长方体	圆柱
个数					

(2) 涂一涂。



以上图形中, 最少的图形比最多的图形少()个。

18. 摆一摆、填一填

在下表中, 用 5 个●摆出不同的数。

十位	个位	合成的数
	● ● ● ● ●	5

四、解决问题

19. 在六一儿童节活动中, 一年级一班数学老师共买了 98 面小彩旗, 第一组拿去了 20 面小彩旗, 老师还剩下多少面彩旗?

算式: _____

口答: 老师还剩下()面小彩旗。

20. 在“6·26”国际禁毒日主题教育活动中, 学校组织一年级同学到禁毒教育基地参观学习。已经参观 43 人, 还有 40 人没有参观, 一年级一共有多少人?

算式: _____

口答: 一年级一共有()人。

21. 校园的图书角原来有一些图书, 新学期老师又买来了 20 本, 后来同学们借走了 9 本, 现在有 86 本, 图书角原来有多少本图书?

算式: _____

口答: 图书角原来有()本图书。

22. 共有 23 个鸡蛋, 每 6 个放一盘, 最多可以放满几盘? 还剩下几个?

算式: _____

口答: 最多可以放满()盘, 还剩下()个。

23. 东东到超市购物, 爸爸只给了东东 100 元钱, 但东东需要买三样物品, 他可以怎样选择?



玩具车 48 元



小熊 8 元



书包 50 元



文具盒 10 元

方法一: 购买 _____、_____、_____

列式计算: _____

方法二: 购买 _____、_____、_____

列式计算: _____