

考号: 姓名: 班级: 学校:

一年级下册数学项目化练习题

一、我会填空。

1. 写出下面各数

八十七

四十六

一百

2. 按顺序写数

49	50			53
----	----	--	--	----

3. 75 十位上的数是 (), 表示 () 个十, 个位上的数是 (), 表示 () 个 ()。

4. 与 59 相邻的两个数分别是 () 和 ()。

5. 最大的两位数是 (), 最小的两位数是 (), 它们相差 ()。

6. 比 69 多 20 的数是 (), () 比 69 多 20。

7. 一张 50 元的人民币可以换 () 张 10 元的人民币。

8. 找规律 ○□□○□□○ () ()。

9. 在 ○ 里填上 “>” “<” 或 “=”。

26 ○ 62

34 ○ 40

86-10 ○ 76

1 元 ○ 9 角

5 元 ○ 5 角

4 角+6 角 ○ 1 元

二、我会判对错 (对的在后面括号里打√, 错的打×)

1. 在 “33” 这个数中, 两个 “3” 表示的意义相同。 ()

2. 96 读作九六。 ()

3. 一个数从右边起, 第一位是个位, 第二位是十位, 第三位是百位。 ()

4. 在 9、75、49、68、98 中最大的数是 75。 ()

5. 46+20=48。 ()

三、我会选。(将正确的选项填在括号里)

1. 下列数中比 79 大的数是 ()。

A. 36

B. 80

C. 68

2. 6 个十和 8 个一组成的数是 ()。

A. 68

B. 86

C. 80

3. 学校有 20 棵杨树, 松树比杨树多一些, 松树有 () 棵。

A. 24

B. 15

C. 7

4. 82 块饼干, 10 块装一袋, 可以装满 () 袋?

A. 10

B. 8

C. 2

5. 比 40 少得多的数是 ()。

A. 5

B. 38

C. 88

四、我会算

1. 计算

18-9=

36+20=

6+40=

80-50=

30+70=

34+8=

72-2=

85-50=

54-8=

32+20=

68-(8+2)= 40+20+8= 5 角+6 角= () 元 () 角

2. 看图列式计算

1. ○○○ ○○○○○
○○○ ○○○○

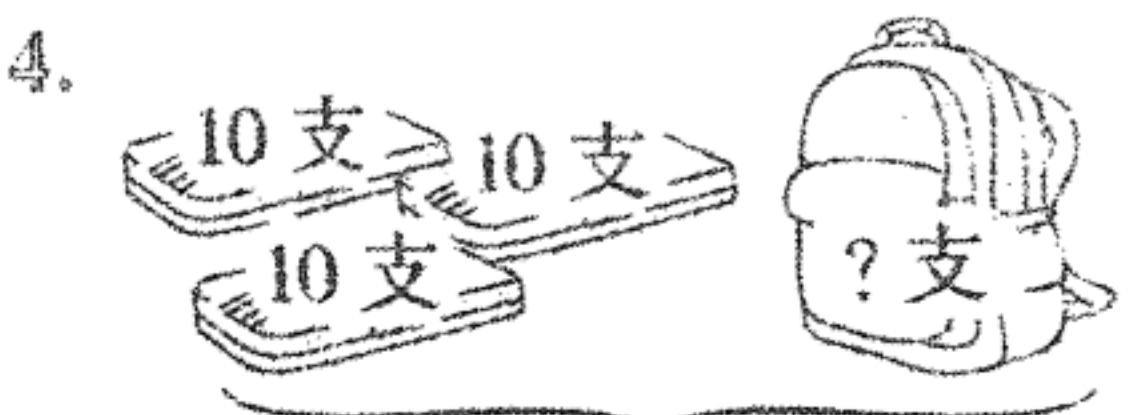
□+□=□(个)



? 个
□○□=□(个)

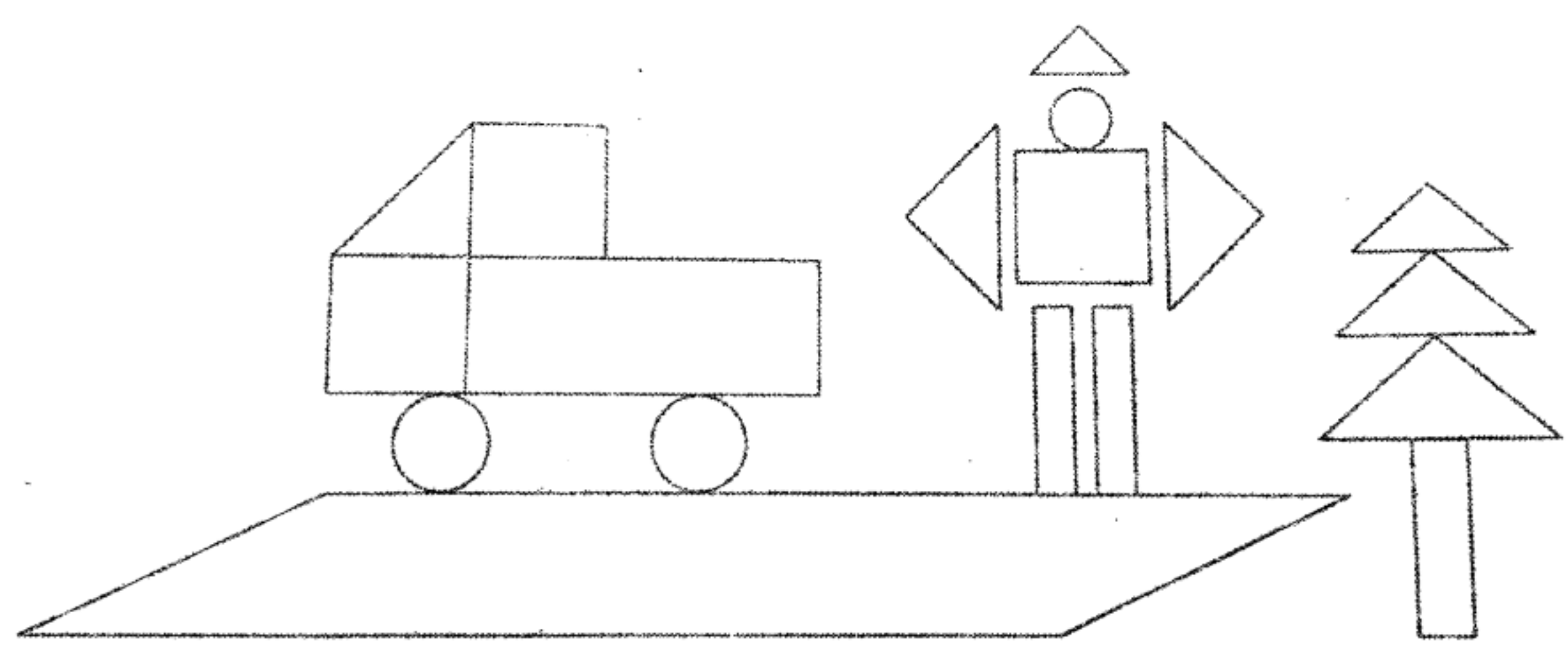
2. △△△△△ △△△△△
△△△△△ △△△△△

□-□=□(个)



52 支
□○□=□(支)

五、按要求做题。



图形	长方形	正方形	圆	三角形	平行四边 形
个数					


- 1. () 形的数量最多。
- 2. 长方形比三角形少 () 个，正方形比平行四边形多 () 个。

六、我会解决问题

1. 原来有 30 条船，划走了 9 条，还剩多少条？

2. 小明家有 64 只鸡和 25 只鸭。公鸡有 20 只，母鸡有几只？

3. 张叔叔去药店买口罩，买了一包 45 元的和一包 10 元的。张叔叔一共花了多少元？



5. 猴妈妈提了一篮花生，第一只猴子拿走了 30 个，第二只猴子拿走了 28 个，第三只猴子拿走的和第一只同样多。这时，篮子里没有花生了。猴妈妈篮子里原来有多少个花生？