

三年级（下）期末学业质量与学科素养评价

数 学

2023.07

说明：全卷共4页，五大题；考试时间60分钟，满分100分。

书写要求：1. 字体规范、美观 2. 书面整洁、清晰


一、我会填。（每空1分，共26分）

1. 9平方米=（ ）平方分米 1米5分米=（ ）分米
800平方厘米=（ ）平方分米 （ ）千克=3吨

2. 如图，一行有14个圆片，摆了12行，一共有多少个圆片？

$$\begin{array}{r} 14 \\ \times 12 \\ \hline 28 \\ 140 \\ \hline 168 \end{array}$$

-表示（ ）行的圆片共28个。
.....表示（ ）行的圆片共（ ）个。
.....表示（ ）行的圆片共168个。



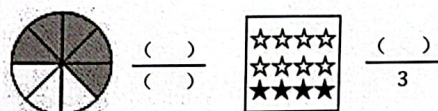
3. 在（ ）里填上合适的单位。

- ①一个鸡蛋大约重50（ ）。 ②一头水牛大约重450（ ）。
③一块橡皮一个面的面积大约是6（ ）。 ④一块黑板面的周长大约是12（ ）。

4. 用分数表示涂色部分，并比较左边两个分数的大小。



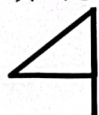
$$\frac{(\quad)}{(\quad)} \bigcirc \frac{(\quad)}{(\quad)}$$



$$\frac{(\quad)}{(\quad)} \frac{(\quad)}{3}$$

5. $\square 92 \div 6$ ，如果商是三位数， \square 里最小可以填（ ），如果商是两位数， \square 里最大可以填（ ）。

6. 填“是”或者“不是”。



（ ）轴对称图形。



（ ）轴对称图形。

7. 在做平移运动的物体后面画“ \triangle ”，在做旋转运动的物体后面画“ \bigcirc ”。



方向盘（ ）




米老鼠拖的蛋糕（ ）

8. 在下面的()里, 最大能填几?

() $\times 59 < 420$

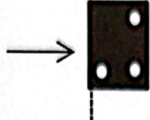
$29 \times () < 90$

9. 如右图, 小鱼从位置②向左平移()格, 就到了位置①。



二、我会选。(将正确答案的序号填在括号里)(每题 2 分, 共 10 分)

1. 将一张纸对折后剪去三个圆



, 展开后是哪一个? ()



2. 分一分, 想一想, 右边除法竖式中“12”表示的意思是()。



$$\begin{array}{r} 162 \\ 2 \overline{) 324} \\ \underline{2} \\ 12 \\ \underline{12} \\ 4 \\ \underline{4} \\ 0 \end{array}$$

—— 12 个 ()

A. 12 个一

B. 12 个十

C. 12 个百

3. 书的封面、两人用的课桌面、黑板面, () 的面积最接近 1 平方米。

A. 书的封面

B. 两人用的课桌面

C. 黑板面

4. 在一张长 6 米宽 4 米的长方形纸上, 剪去一个最大的正方形。这个正方形的面积是() 平方米。

A. 24 平方米

B. 36 平方米

C. 16 平方米

5. 如图所示, 笑笑的书柜有三层。她将每层贴了一个小动物贴纸, 这三个小动物是小兔、小熊和小鱼。第一层贴的不是小鱼, 也不是小兔。她把小鱼贴在了小兔的上面一层。第二层是()。

A. 小兔

B. 小熊

C. 小鱼



一
二
三

三、我会算。(共 28 分)

1. 直接写得数。(8 分)

$600 \div 3 =$

$60 \times 5 =$

$36 \div 3 =$

$90 \div 6 =$

$1 - \frac{5}{7} =$

$\frac{1}{4} + \frac{2}{4} =$

$280 \div 2 =$

$310 \times 30 =$

2. 列竖式计算。(带★的要验算)(验算题 5 分, 其余每题 3 分, 共 11 分)

$38 \times 92 =$

$654 \div 6 =$

$\star 427 \div 7 =$

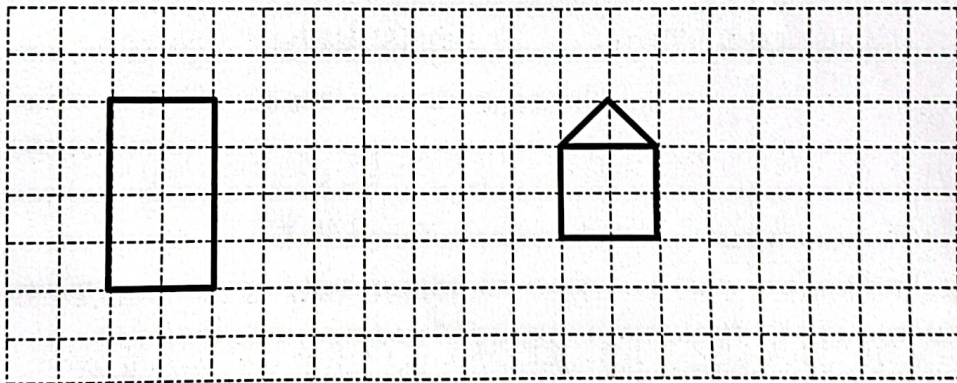
3. 脱式计算。(9 分)

$276 \times (200 - 194)$


$(901 - 236) \div 5$

$450 \div 3 \times 2$

四、我会操作。(共 10 分)



1. 画出第一个图形的一条对称轴。(2 分)

2. 画出  向左平移 3 格后的图形。(4 分)

3. 在上面的方格图中, 画一个面积是 12 平方厘米的长方形。(每个小方格面积为 1 平方厘米)(4 分)

五、我会解决。(共 26 分)

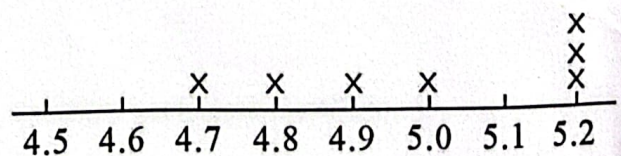
1. 下面是文苑小学三年级 1 班女生视力情况。

(1) 妙想在下图中画出了第一行女生视力, 请接着画出其余同学的视力。(2 分)

5.2 4.9 5.2 4.8 5.2 5.0 4.7

5.0 4.8 5.2 4.9 5.1 5.0 5.0

5.1 4.9 4.9 5.1 5.2 4.5 5.1

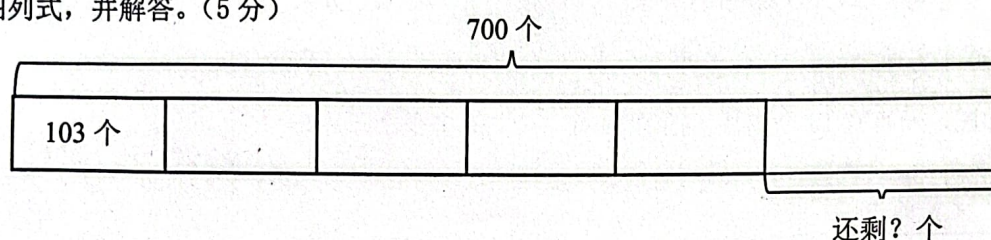


(2) 根据上图填一填。(2分)

视力	4.5	4.6	4.7	4.8	4.9	5.0	5.1	5.2
人数								

(3) 视力 4.9 及以下为近视, 这个班女生中近视的人数是多少? (2分)

2. 看图列式, 并解答。(5分)



3. 六一儿童节开联欢会, 育才幼儿园买了 810 米长的彩带装扮教室。育才幼儿园有三个年级, 每个年级有 3 个班, 平均每个班分到多少米彩带? (5分)

4. 暑假到了, 同学们积极参加“回收有害垃圾, 保护水环境”的环保活动。雏鹰小队 15 名同学, 平均每人回收了 35 节电池。奋进小队回收的电池数跟雏鹰小队一样多, 奋进小队只有 7 名同学, 平均每人回收了多少节电池? (5分)

5. 文化宫要给一个长 12 米宽 8 米的长方形舞台铺地毯, 每平方米地毯售价是 46 元, 买地毯需要多少元? (5分)

