

姓名： 学号： 班级：

2022—2023 学年第二学期数学科四年级期末教学质量测评卷

(注意：本试卷共六道大题，时间 70 分钟)

等次：_____

同学们：记得要做到卷面清洁，书写工整哦！

 你真棒 ()

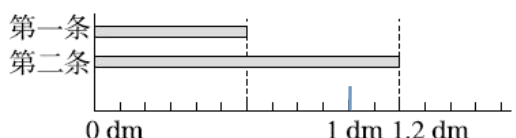
 还不错 ()


 要加油 ()

一、我能填对。(每空 1 分,共 23 分)

- 1. 一个数由 4 个十、3 个一、9 个百分之一和 5 个千分之一组成,这个数是(), 读作(), 保留两位小数约是()。
- 2. 0.09、0.009、0.9 和 0.090 中, 计数单位一样的是()和(), 大小相等的是()和()。
- 3. 把 946000 改写成以“万”作单位的数是()万, 1549000000 四舍五入到亿位约是()亿。
- 4. 把 2.5 扩大到它的 100 倍是(), 6.8 缩小到它的 $\frac{1}{()}$ 是 0.068。
- 5. 某日外币兑换人民币的计算方法是 1 美元可以兑换 7.1794 元人民币, 那么 100 美元可以兑换()元人民币。

6. 第一条比第二条短()dm。





① 8.60秒 ② 9.20秒 ③ 8.75秒 ④ 9.86秒

(第 7 小题的图)

- 7. 右面是四位同学 50 米跑的成绩, 跑得最快的是(), 最慢的是(), 两者成绩相差()秒。
- 8. 7 元 3 角=()元 386 米=()千米
1.64 平方分米=()平方厘米 0.72 千克=()克
- 9. 在○里填上“>”“<”或“=”。

2.05○2.050 $\frac{3}{10}$ ○0.25 4.05 平方米○4 平方米 50 平方分米


二、火眼金睛辨对错。(每题 1 分,共 5 分)

题目	1	2	3	4	5
答案					

- 1. 小数由两部分组成, 分别是整数部分和小数部分。
- 2. 把 $(400+4) \times 25$ 错写成 $400+4 \times 25$, 得到的结果与正确结果相差 9600。
- 3. 在一个小数的末尾添上两个 0, 这个小数就扩大到原来的 100 倍。
- 4. 等边三角形一定是锐角三角形。
- 5. 在期末考试中, 玲玲语文、数学、英语三科的平均分是 95 分, 她的语文成绩不一定是 95 分。

三、我会选。(把正确答案的序号填在括号里)(每题 1 分,共 5 分)。

题目	1	2	3	4	5
答案					

- 1. 下列各式简便计算错误的是(★)。
A. $25 \times 32 \times 125 = 25 \times 4 + 125 \times 8$ B. $350 \div 14 = 350 \div 7 \div 2$
C. $12.8 - (12 - 7.2) = 12.8 + 7.2 - 12$ D. $88 \times 125 = 11 \times (8 \times 125)$
- 2. 下面两个图从(★)观察到的形状相同。

A. 左面 B. 前面 C. 上面 D. 以上都不对
- 3. 用三根长度为整厘米数的小棒围成一个三角形, 如果其中两根小棒分别长 8 cm、10 cm, 那么第三根小棒最短是(★)cm。
A. 3 B. 9 C. 17 D. 2
- 4. 解放军叔叔进行野外训练, 晴天每天行 25 km, 雨天每天行 15 km, 8 天共行了 180 km。这期间雨天有(★)天。
A. 8 B. 6 C. 2 D. 4
- 5. 小芳在计算 99×27 时, 将算式转化成 $(99+1) \times 27$ 进行计算, 计算的结果与正确的结果比(★)。
A. 不多不少 B. 多了 27 C. 少了 27 D. 多了 99

四、我的计算最认真。(共 29 分)

1. 直接写得数 (每题 1.5 分, 共 12 分)

$3.07 + 1.6 =$	$2 - 1.6 =$	$0.38 + 0.5 =$	$0 \times 347 =$
$320 - 90 =$	$960 \div 16 =$	$5 - 2.04 =$	$6.82 - 1.82 =$

2. 用递等式计算。（每小题 3 分，共 9 分）

36. $7-19.4+35.8$

$250\times13\times4$

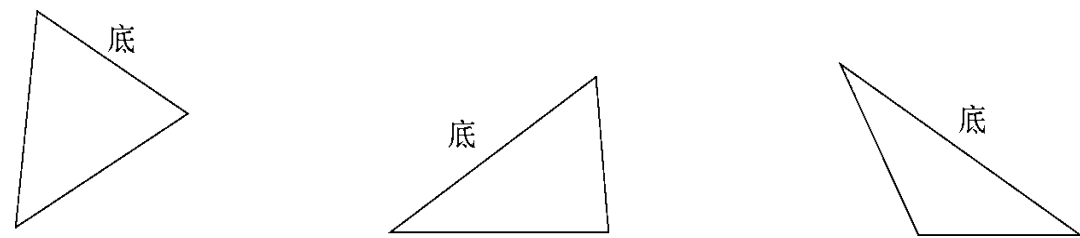
$17\times23-23\times7$

3. 计算角的度数。（每小题 4 分，共 8 分）




五、动手操作。（第五大题共 12 分，第 1 小题共 6 分，第 2 小题共 6 分）

1. 画出下面三角形底边上的高。（共 6 分，每小题 2 分）



2. 下面是明明和亮亮两家各季度用水情况统计表，请补全下面的统计图。（单位：吨）

	第一季度	第二季度	第三季度	第四季度
明明家	28	32	25	23
亮亮家	30	35	26	25



六、解决问题我最棒。（第 1-4 小题每题 5 分，第 5 小题 6 分，共 26 分）

1. 地球表面积大约是 5.1 亿平方千米，其中陆地面积大约是 1.49 亿平方千米。海洋面积比陆地面积大多少亿平方千米？（5 分）

2. 一个游泳池长 50 米。小东游了 7 个来回，他一共游了多少米？（5 分）

3. 王老师要批改 68 篇作文。第一天批改了 22 篇，第二天批改的比第一天多 8 篇，还有多少篇没有批改？（5 分）

4. 爸爸给小红买了一个等腰三角形的风筝。风筝的一个底角是 70 度，风筝的顶角是多少度？（5 分）

5. 某商场举办促销活动，一种袜子买 5 双送 1 双。这种袜每双 4.68 元，张阿姨想买 12 双。需要花多少钱？（6 分）