

山东省泰安市宁阳县磁窑镇

2022-2023 学年度下学期一年级数学学科期末考查题

(总分 100 分 答题时间 60 分钟)

一、算一算。(共 29 分)

1. 直接写得数。(17 分)

$28+7=$ $34-8=$ $55+30=$ $97-50=$ $58+40=$

$42-7=$ $76+8=$ $7+58=$ $43+7=$ $82-6=$

$40+37=$ $80-40=$ $60+40=$ $67-4=$ $46+3=$

8 角+4 角= () 元 () 角 2 元-5 角= () 元 () 角

2. 列竖式计算。(12 分)

$39+46$ $82-38$ $80-35$

$5+58+27$


$63-24+35$

$90-39-26$



二、填一填。(共 30 分)


1. 看图填数。



()



()




()

2. 6 个十和 7 个一组成的数是 ()。

3. 46 的个位上是 (), 表示 () 个 (); 十位上是 (), 表示 () 个 ()。

4. 铅笔长 () 厘米。



5. 在 ○ 里填上 “>”、“<” 或 “=”。

$$47 \bigcirc 74$$

$$80 \bigcirc 80-9$$

$$67+20 \bigcirc 90-3$$

$$65-7 \bigcirc 56$$

$$100 \text{ 厘米} \bigcirc 1 \text{ 米}$$

$$20 \text{ 角} \bigcirc 2 \text{ 元}$$



6. 小明一步大约长 50 ()




7. 一个书包的价钱为 45 ()

8. 一棵杨树高 15 ()

9. 按规律填一填。

(1) 26, 35, 44, (), (), ()

(2) 

10. 一张  可以换 () 张  , 还可以换 () 张 .

11. 小红买了一块 6 角的橡皮, 付给售货员 1 元, 应找回 () 角。

12. 看钟面填时间。





刚过 () 时 () 时 快到 () 时

三、选一选，在正确答案的下面画“√”。(4分)

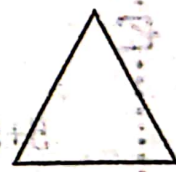


(1) 最接近 90 的数是 (79 92 82 89)

(2) 最小的两位数是 (1 10 11 12)

(3) 100 里的“1”表示 (1 个十 10 个一 1 个百)

(4) 最大的两位数和最大的一位数的差是 (1 10 89 90)

四、连一连。(5分)



正方形

三角形





长方形

圆形





平行四边形



五、数一数，填一填，涂一涂。(10分)

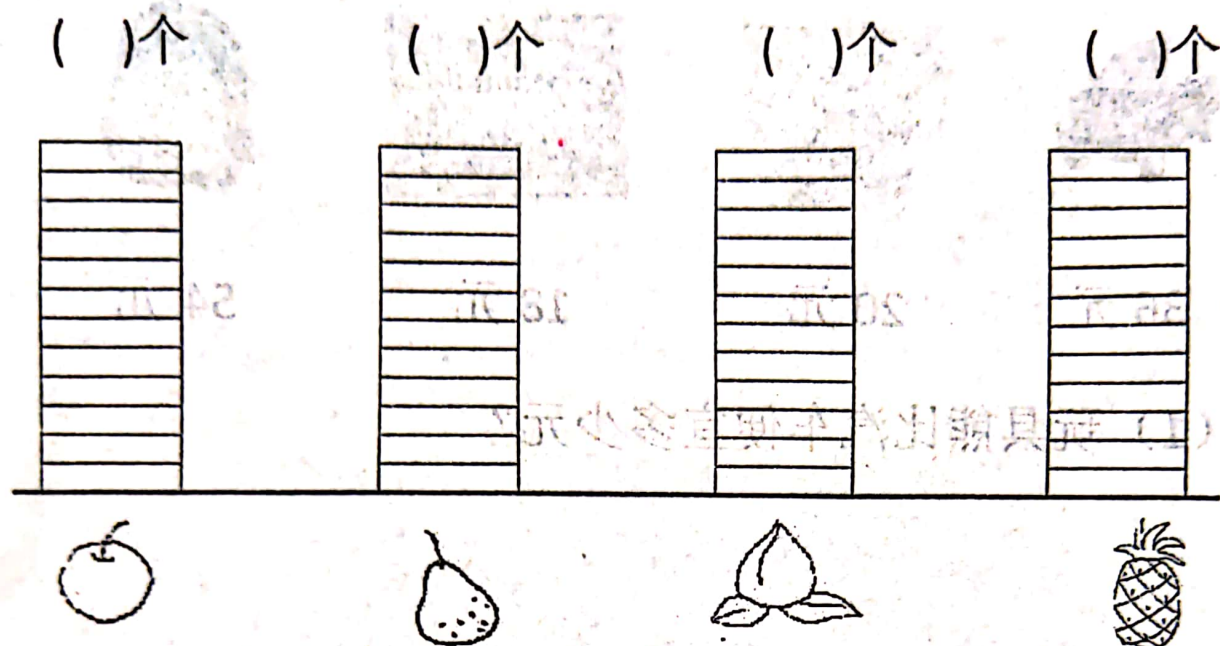
| | | | |
|---|---|--|---|
|  |  |  |  |
| 正正丁 | 正 | 正一 | 正 |

1. 根据上图填一填。

| | | | |
|---|---|--|---|
|  |  |  |  |
| () 个 | () 个 | () 个 | () 个 |



2. 涂一涂。



3. 苹果比梨多 () 个, 菠萝比桃子少 () 个。

六、解决问题。(22 分)

1. 跳绳比赛。(7 分)

(1) 把表填完整。

(2) () 两次

加起来最多。

| | 第一次 | 第二次 | 一共 |
|----|------|-------|-------|
| 小青 | 30 下 | 40 下 | () 下 |
| 小红 | 20 下 | () 下 | 68 下 |
| 小玲 | 52 下 | 30 下 | () 下 |



2. (15 分)



36 元



20 元



18 元



54 元

(1) 玩具熊比汽车便宜多少元?







(2) 汽车比水彩笔贵多少钱? (4 分)





| 共一 | 共二 | 共三 | |
|-------|-------|------|-----|
| 元 () | 元 04 | 元 08 | 元 小 |
| 元 80 | 元 () | 元 05 | 元 小 |
| 元 () | 元 08 | 元 52 | 元 小 |



(3) 买一盒水彩笔和一只书包，一共要多少元？

| | | | |
|---|---|---|---|
|  |  |  |  |
| 五 | 五 | 五 | 五 |

(4) 小强只买了一样物品，付出 40 元，找回 4 元，他买了什么？

| | | | |
|---|---|---|---|
|  |  |  |  |
| 个 () | 个 () | 个 () | 个 () |

(5) 小明有 50 元，买一辆汽车和一盒水彩笔，够吗？

