

2022~2023 学年度第二学期小学一年级学情诊断

数学随堂乐考

(时间:上午 8:30——9:30)

说明:本次学情诊断为闭卷笔答,答题时间 60 分钟。

类 型	基础知识	实践操作	解决问题	总 评
等 级				

基础知识

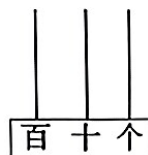
一、填一填。

1. 读下面材料并填空。

锦绣太原,风景如画。太原拥有综合性公园 54 个,专类公园 12 个,带状公园 7 个,社区游园 58 个,街头游园(广场)309 个,街旁绿地 260 块,排在中国主要城市公园数前列,这些镶嵌在城市里的公园让太原变得更绿色、更宜居。

(1)以上材料中的一位数是()。

(2)请在上面的材料中任选一个两位数圈出来,再把这个数在右边的计数器上表示出来。



(3)要计算“综合性公园和专类公园一共有多少个”,列式应为_____ ;口算时可以先算()个十和()个十合起来是()个十,再算()个一和()个一合起来是()个一,最后得数为()。

2. 在○里填上“>”“<”或“=”。

$$3+48 \bigcirc 48+30$$

$$36+9 \bigcirc 36-9$$

$$48 \text{ 角 } \bigcirc 4 \text{ 角 } 8 \text{ 分}$$

$$51-40 \bigcirc 51-4$$

$$54-9 \bigcirc 51-6$$

$$15-8 \bigcirc 23-8$$

3. 写出三个“个位上都是 4”的两位数,并把它们从小到大排列出来。

() < () < ()

4. 在 78、25、43、97、30 这几个数中:

(1)最小的数是(),最大的数是();

(2)最接近 40 的数是();

(3)双数有_____,其中()是整十数。

5. 找规律填数。

95, 90, 85, 80, (), ()。

9, 18, 27, 36, (), ()。


49, 47, 45, 43, (), ()。

二、选一选。(选择正确答案的序号填在括号里)

1. 小明买了两种文具, 正好花了 10 元钱, 他买的是()和()。




1 元 8 角



8 角



2 元 8 角



8 元 2 角

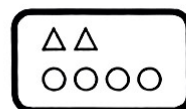
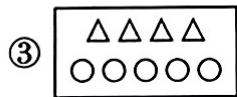
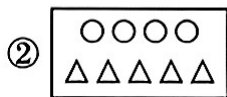
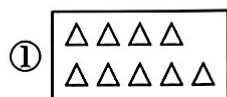
2. 50 以内个位上和十位上数字相同的两位数有()。


① 5 个

② 4 个

③ 3 个

3. 如果右图表示 24, 那么下面能表示 45 的是()。



4. 如右图, 一个篮子里正好装有 40 个鸡蛋, 如果用这个篮子改装 , 能放()。

① 比 40 个少

② 正好 40 个

③ 比 40 个多



三、算一算。

1. 直接写出得数。

$76+4=$

$81-6=$

$8+59=$

$70-7=$

$36+8=$

$59+6=$

$13-6=$

$64-50=$

$93-8=$

$60+30=$

$40+39=$

$6+79-60=$

$35+40=$

$17-9=$

$90-70=$

$59-30=$

$4+49=$

$72-20+9=$

2. 用竖式计算。

$27+56=$


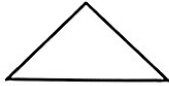

$90-37=$

$82-48=$


实践操作

四、实践操作。

1. 用第一行的物体能描出第二行的哪个图形？连一连吧。



2. 在下面的方格纸上画一个长方形、一个正方形和一个三角形。



解决问题

五、解决问题。

1. 实验小学一年级这学期举行了“‘跳’动童年 ‘绳’彩飞扬”跳绳活动,同学们积极参加,发现了好多数学问题,我们一起来看看吧。

竹节跳绳



13 元

计数跳绳



18 元

钢丝跳绳



37 元

(1) 小明付了 50 元,找回 32 元。他买的是哪种跳绳?

(2)阳阳买一根 $\text{¥}1$,找回7元。他付了多少元?

(3)小芳买一根 $\text{¥}1$,付的钱全是 $\text{¥}2$,她付了()张。

2. 经过一段时间的练习,同学们的跳绳成绩都在提高。

(1)红红现在一分钟能跳多少下?

我原来一分钟跳55下,现在能比原来多跳21下。



红红

(2)

红红现在跳的个数比我多一些。



强强

强强一分钟能跳多少下? 在合适的答案下面画“√”。

30 下	64 下	82 下
<input type="checkbox"/>	<input type="checkbox"/>	<input type="checkbox"/>

3. 学期末一年一班进行了一分钟跳绳考核。

我跳了83下。



小雪

我比小雪少跳了9下。



小丽

我跳了99下。



乐乐

(1)小丽跳了多少下?

(2)乐乐比小雪多跳多少下?