

三年级数学试题

题号	一	二	三	四	五	六	总分
得分							

贴条形码处

一、我会算。

1. 直接写得数。

$$\begin{array}{llllll} 8000 \div 2 = & 6.2 + 3.9 = & 9.6 - 3.8 = & 50 \times 16 = & 25 \times 80 = & \\ 804 \div 4 = & 125 \times 8 = & 990 \div 3 = & 500 \div 7 \approx & 49 \times 51 \approx & \end{array}$$

2. 用竖式计算。(带※的要验算)

$$\begin{array}{llll} 68 \times 25 = & 13.2 + 9.8 = & 13.5 - 4.8 = & ※824 \div 4 = \end{array}$$

3. 脱式计算。

$$\begin{array}{lll} 917 - 17 \times 35 & 26 \times (444 - 399) & 352 \div 8 \div 4 \end{array}$$

二、我会填。

1. 在括号里填上合适的单位。

字典厚 5 () 一张 A4 纸的面积大约是 600 ()

小华的腰围是 6 () 数学课本封面的面积约是 3 ()

2. 5 年 = () 个月 6 平方米 = () 平方分米 晚上 9 时 = () 时

3. 在○填上“>”“<”或“=”。

70 平方分米 ○ 6 平方米 21 角 ○ 1.9 元 45×0 ○ $0 \div 45$

4. 把钟表平放到桌面上,把数字 12 正对着北面,正对着南面的是数字(),数字 3 正对着()面。

5. 一道除法算式中,商和余数都是 3,除数正好是余数的 3 倍,被除数是()。

6. 计算 $\square 24 \div 6$ 时没有余数,如果商是三位数, \square 可以填();如果商是三位数且中间是 0, \square 是();如果商是两位数, \square 是()。

7. 14 个 27 是(),43 的 22 倍是(),21 与 35 的乘积比 1000 少(),28 个 12 比 280 多()。

8. 儿童节在()月份,植树节在第()季度,今年这个季度有()天。

9. 爸爸驾驶汽车 13:30 从家乡出发,下午 6 时 30 分到达北京,路上共行驶了()小时,若两地相距 560 千米,平均每小时行驶()千米。

10. 用 2、5、0 组成没有重复数字的三位数,能组成()个个位是双数的三位数,这些三位数分别是()、()、()。

三、我会判断(对的打“√”,错的打“×”)。

1. 三(1)班做广播操,排成 3 行,每行 15 人,若排成 9 行,则每行 5 人。()

2. 今年是平年,共有 12 个月,其中包括 6 个大月和 6 个小月。()

3. 边长为 4 厘米的正方形的周长与面积相等。()

4. 估算除法时,估算的结果一定比笔算结果要小。()


5. 两位数乘两位数,积可能是三位数,也可能是四位数。()

四、我会选(将正确答案的字母填在括号内)。

1. 下面算式的商最接近 80 的是()。

A. $540 \div 6$ B. $230 \div 3$ C. $481 \div 6$

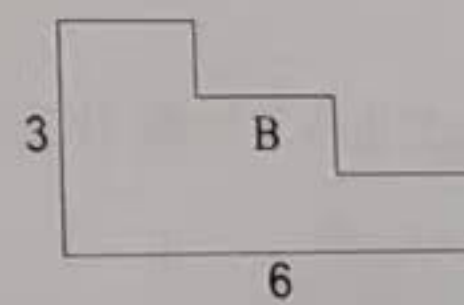

2. 下面的涂色部分的面积不能用 0.4 表示的是()。



3. 有 150 本书,平均分给 6 个班级,每个班级分多少本书?小乐用竖式表示计算过程,右图中箭头所指的“12”表示()。

A. 已经分走了 12 本 B. 已经分走了 120 本
C. 已经分走了 2 本

4. A 和 B 比较,面积(),周长()(单位:厘米)。




A. B 大

B. A 大

C. 一样大

五、按要求完成下列各题。


1. 请用左边的方法圈一圈，算一算。




$$22 \times 10 = 220$$

$$22 \times 2 = 44$$

$$220 + 44 = 264$$



2. 在方格图中先画一个长 7cm、宽 5cm 的长方形，再画一个与它周长相等的正方形，并分别求出长方形和正方形的面积（每个小方格的边长表示 1cm）。



长方形的面积：

正方形的面积：

六、我会解决问题。

1. 用 7 颗纽扣可以缝制一朵纽扣花。刘阿姨要缝制 68 朵这样的纽扣花。估计一下买 300 颗一包的纽扣够不够？买 500 颗一包的够呢？



2. 广场有一个边长 8m 的正方形场地，打算用面积 8dm^2 的彩砖铺地，一共需要多少块这样的彩砖？

3. 下图是某快餐公司今日菜品价目表。小军午餐选一个荤菜、一个素菜和一个汤。若选最贵的搭配，需要花多少钱？

素菜：	熏干芹菜：3.8 元/份
	烧茄子：2.6 元/份
荤菜：	宫保鸡丁：8.8 元/份
	炖排骨：12.6 元/份
汤：	鸡蛋汤：1.5 元/份
	冬瓜汤：1.2 元/份

4. 下面是某小组学生跳高、跳远成绩统计表：

成绩 项目	姓名	明明	乐乐	聪聪	欢欢
跳高		1.1 米	0.7 米	0.9 米	0.8 米
跳远		1.4 米	0.9 米	2.1 米	1.3 米

(1) 跳高成绩中 () 跳得最高，() 跳得最低，最高的和最低的相差 () 米。

(2) 请给跳远比赛的四名同学排出名次，并说明理由。

5. 学校食堂买了 22 箱苹果，每箱 2 层，每层 15 个。全校共有 6 个年级，每个年级 3 个班，平均每班 36 人。每 4 个苹果约重 1 千克，每千克苹果 6 元钱。

(1) 全校每人分 1 个苹果，够吗？ (2) 你能提出其他数学问题并解答吗？