

# 2022-2023 学年度下学期三年级数学期末考试试卷

题号	一	二	三	四	五	总分
得分						

## 一、填空题。(每空 1 分,共 30 分)

1.  $13 \times 40$  的积末尾有( )个 0,  $12 \times 50$  的积末尾有( )个 0。

2. 右图中阴影部分是圆的  $\frac{(\quad)}{(\quad)}$ , 用小数表示是( ); 空白



部分是圆的  $\frac{(\quad)}{(\quad)}$ , 用小数表示是( )。

3. 一年有( )个月, 其中( )个月是大月, ( )个月是小月, 平年一年有( )天, 闰年的 2 月有( )天, 2016 年是( )年, 全年共有( )天。

4.  $697 \div 7$  商的最高位在( )位上, 商是( )位数。

5. 照样子写一写。

24:00(晚上 12 时)

21:00( )

( )凌晨 5 时 12 分

( )下午 3 时 5 分

6. 长是 16 米, 宽是比长少 7 米的长方形, 面积是( )平方米, 周长是( )米。

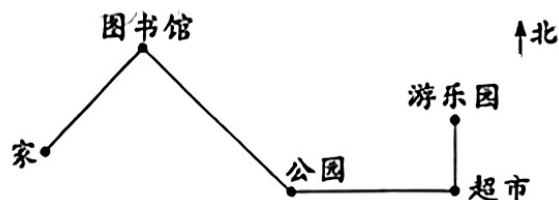
7. 72 时 = ( )日

两年半 = ( )个月

1 米 3 分米 = ( )米

5000 平方分米 = ( )平方米

8. 如下图, 从家里出发向( )方向走到图书馆; 再向( )方向走到公园; 再向( )方向走到超市, 最后向( )方向走到游乐园。




9. 爸爸的上班时间是上午 10:00—晚上 7:00, 爸爸一天的工作时间是( )小时。

10. 小强有红、黄、绿、蓝 4 种不同颜色的水彩笔, 在涂一幅画时, 老师要求只能用两种不同颜色的水彩笔搭配着涂, 那么他有( )种不同的搭配方法。

二、选择题。(将正确答案的序号填在括号里)(10分)


- 比2.5大,比2.8小的小数有( )个。  
A. 2                      B. 3                      C. 4                      D. 无数
- 两位数乘两位数的积( )。  
A. 是四位数              B. 是三位数              C. 可能是四位数也可能是三位数
- 下面是由同样大小的正方形拼成的,其中面积最小的是( ),周长最长的是( )。



A



B



C

- $6 \square 4 \div 6$ ,要使商的中间有0, $\square$ 里最大可以填( )。  
A. 0                      B. 2                      C. 4                      D. 5
- 有两个一样大小的长方形,长都是16厘米,宽都是8厘米。拼成一个正方形,拼成的正方形的周长是( )厘米,面积是( )平方厘米。  
A. 64                      B. 80                      C. 256

三、计算题。(22分)

1. 直接写出得数。(6分)

$4.8 - 2.4 =$

$16 \times 50 =$

$5.6 + 4.4 =$

$25 \times 40 =$

$19 \times 51 \approx$

$448 \div 5 \approx$

2. 用竖式计算。(带☆的要验算)(8分)

$45 \times 19 =$

$\star 102.1 - 19.8 =$

$\star 857 \div 7 =$


$604 \div 5 =$

3. 脱式计算。(4分)

$360 + 24 \times 25$

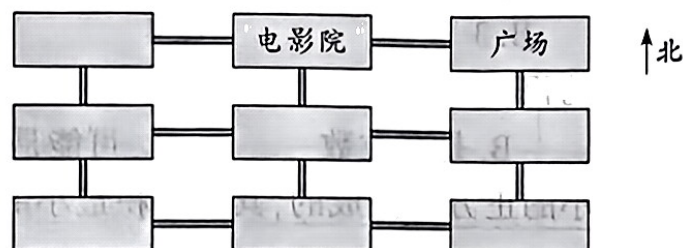
$290 - 160 \div 5$

4. 求下面图形的周长和面积。(4分)



#### 四、按要求做题。(15分)

1. 根据下面的描述,把建筑名称填入相应的位置。(7分)



- (1) 图书馆在电影院的南面,医院在图书馆的西北面,文具店在医院的南面。  
 (2) 学校在图书馆的南面,公园在学校的西面,书店在学校的东北面,体育馆在书店的南面。

2. 学校开展兴趣小组活动,有计算机小组、篮球小组、舞蹈小组、田径小组。你想参加哪个小组的活动? 让我们一起来做个统计吧。(8分)

三年级一班参加兴趣小组统计表

兴趣小组	计算机小组	篮球小组	舞蹈小组	田径小组
人数	6	12	8	10

三年级二班参加兴趣小组统计表

兴趣小组	计算机小组	篮球小组	舞蹈小组	田径小组
人数	8	10	15	11

根据统计图表填写复式统计表(4分)

兴趣小组	计算机小组	篮球小组	舞蹈小组	田径小组
三年级一班				
三年级二班				

- (1) 二班参加( )小组的人最多,一班参加( )小组的人最少。(2分)  
 (2) 二班参加篮球小组的人比一班参加篮球小组的少( )人。(1分)  
 (3) 一班参加人数最多的兴趣小组比二班参加人数最少的兴趣小组多( )人。(1分)

#### 五、解决问题。(23分)

1. 植树节到了,学校组织三年级同学去植树,男生去 69 人,女生去 75 人,每 8 人分成一组,一共可以分成多少组?(4分)




2. 电视台 20:00 开始播放一场球赛,到 22:30 结束,中间插播 3 次广告,每次播广告 5 分钟,这场比赛进行了多长时间?(4 分)

3. 一根绳子长 10 米,第一次剪去 3.7 米,第二次剪去 4.2 米,这根绳子比原来短了多少米?(4 分)

4. 如图,王大伯沿着墙围了一块长 30 米,宽比长少 4 米的空地养鸡。(6 分)

(1) 这块空地的面积是多少平方米?



(2) 如果给这块空地围上篱笆,篱笆有多长?

5. 一个工程队铺设一条天然气管道,8 名工人每天能铺设 368 米,照这样计算,48 名工人每天铺设多少米?(5 分)