

姓 名
座位号
学 校
考 室
班 级

新晃县 2023 年上期小学二年级期末质量监测卷

数 学



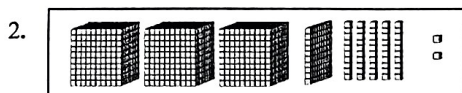
小朋友们好！快乐的一学期即将结束了，你在数学方面一定有很大的收获吧！来，我考考你，看谁做得又快又准确！

题 号	一	二	三	四	五	六	总 分
得 分							

(时量: 60 分钟 总分: 100 分)

一、我会填。(每空 1 分, 共 24 分)

1. 用 24 个●可以拼摆成 () 个 。用 30 个□可以摆 () 个 .



这个数是由 () 个千、() 个百、() 个十和 () 个一组成的，写作 ()。

3. 在○里填上“>”“<”或“=”。

$763 \bigcirc 673$

$1011 \bigcirc 1101$

$6003 \bigcirc 6033$

$5 \text{ 千克} \bigcirc 5000 \text{ 克}$

$2500 \text{ 克} \bigcirc 3 \text{ 千克}$

$1 \text{ 千克} \bigcirc 800 \text{ 克}$

4. 在 () 里填“克”或“千克”。



4 ()

300 ()

50 ()

75 ()

5. 有 32 个苹果，每 8 个装一袋，可以装 () 袋，还剩 () 个；如果每 6 个装一袋，可以装 () 袋，还剩 () 个。

6.



495 元



203 元



因为 495 接近 ()，203 接近 ()，

所以买这两样物品，大约需要 () 元钱。

二、我会判。(对的打“√”，错的打“×”。)(每题 1 分, 共 5 分)

() 1. $63 \div 8 = 7 \cdots 7$

() 2. 每一句乘法口诀都能写出两道除法算式。

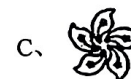

() 3.  是由  平移得到的。

() 4. 7001 读作七千零零一。

() 5. 最大的三位数与最小的四位数相差 1。

三、我会选。(将正确答案的序号填在括号里)(每题 2 分, 共 10 分)

1. 下面各图形中, () 不是轴对称图形。



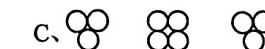
2. 1 千克盐和 1 千克水比较 ()。

A、油重

B、水重

C、同样重

3. 哪些分法是平均分? 正确的是 ()。



4. 从 40 里面连续减 8，减 () 次后结果是 0。

A、4

B、5

C、6

5. 在如图的方格中，每行、每列都有 1~4 这四个数，并且每个数在每行、每列都只出现一次，A 应该是 ()。

A、4

B、3

C、2

3	2		
A		B	2
		3	
1			

四、我会算。(8+6+6=20 分)

1. 口算。

$28 \div 7 =$

$5 \div 5 =$

$56 \div 8 =$

$9 \div 1 =$

$9 \times 4 =$

$1500 - 1000 =$

$150 - 90 =$

$6000 + 3000 =$

2. 用竖式计算。

$72 \div 9 =$

$44 \div 7 =$

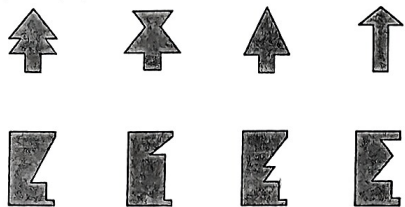
$50 \div 9 =$

3. 脱式计算。


$$\begin{array}{l} 18+24\div6 \\ = \\ = \end{array} \quad \begin{array}{l} 80-(40-26) \\ = \\ = \end{array} \quad \begin{array}{l} 7\times(9-4) \\ = \\ = \end{array}$$

五、我会画。(4+5+3=12 分)

1. 下列图形分别是哪张对折后的纸上剪下来的？连一连。



2. 在下面画○表示“三六十八”这句口诀，并看图写算式。(2+3=5 分)

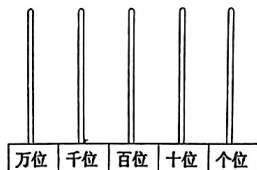
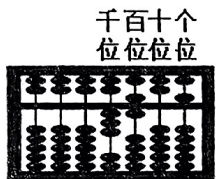


$$\square \times \square = \square$$


$$\square \div \square = \square$$

$$\square \div \square = \square$$


3. 下图中算盘上的数是()，请在计算器上画珠子表示这个数。



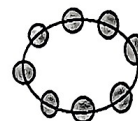
六、我会解决问题。(6+4+5+5+9=29 分)

1. (1) 12 个 ，一个大门贴 2 个，一共可以贴几个大门？



(2) 12 个 ，用去 2 个，还剩几个？


2. 把 37 颗珠子穿成下面这个样子的手链，最多能穿几串？








3. 同学们要栽 55 棵树，已经栽了 6 行，每行 8 棵，还要栽多少棵树？

4. 亮亮一家去旅游，初步估计住宿费要 600 多元，往返交通费要 800 多元，游玩、吃饭等费用要 700 多元，准备 2500 元现金够用吗？

5. 下面是二班学生最喜欢吃的水果投票情况（每人选 1 种水果投票）。



(1) 根据上面的投票结果完成下表。

最喜欢的水果	苹果 	橘子 	梨 	西瓜 	草莓 
人数 (个)					

(2) 喜欢 () 的人数最多，喜欢 () 的人数最少。

(3) 喜欢橘子的人数比喜欢草莓的人数多 () 人。

(4) 二班共有 () 人。