

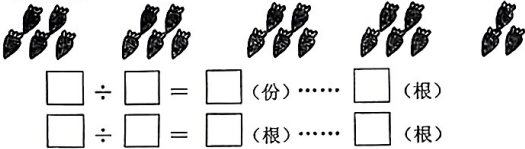
2022—2023 学年度第二学期

二年级数学期末质量调研试卷

分值：100 分 时间：60 分钟 得分 _____

一、认真填一填。（第 1 题 2 分，其余一空 1 分，共 41 分）

1. 看图填空。



2. 最大的四位数是 ()，它后面的一个数是 ()。
3. 23 个十是 ()，由 3 个千、2 个百和 8 个一组成的数是 ()。
4. 右图中有 () 个直角，
() 个钝角，() 个锐角。
5. 在括号里填上合适的单位。

10 张白纸大约厚 1 () 冬冬跑 50 米用了 9 ()
一张课桌高约 7 () 小红跳绳 40 下大约用 30 ()

6. 写出钟面上表示的时间。



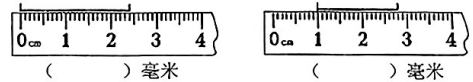
7. 分针从数字 12 走到数字 7，走了 () 分；
时针从数字 9 走到数字 11，走了 () 时。
8. 用 3、0、9、5 可以组成 () 个不同的四位数，其中最小的是 ()，
最接近 5000 的数是 ()。

9. $\square \div \bigcirc = \ast \cdots \cdots 4$ ， \bigcirc 最小是 ()；
 $\star \div 4 = 7 \cdots \cdots \triangle$ ， \triangle 最大是 ()，这时 \star 是 ()。

10. 在 \bigcirc 里填上 “>”、“<” 或 “=”。

100 分 \bigcirc 1 时 4 厘米 \bigcirc 40 分米 100 毫米 \bigcirc 1 分米
9808 \bigcirc 9880 104+401 \bigcirc 600 701-299 \bigcirc 500

11. 下面的线段各是多少毫米，看图填一填。



12. 找规律，接着写。

- (1) 870、880、890、()、()。
(2) 2503、2502、2501、()、()。
(3) 1600、1400、1200、()、()。

13. 小乌龟先向东爬 5 米，向西爬 2 米，接着又向东爬 4 米，再向西爬 8 米，现在小乌龟在起点的 () 面，与起点相距 () 米。

二、仔细选一选。（2 分 \times 5 = 10 分）

1. 下面的数中，只读出一个“零”的数是 ()。
A. 7500 B. 7005 C. 5700 D. 750
2. 东东在做减法题时，把被减数十位上的 7 看成了 1，算出的结果比正确的结果 ()。
A. 多 6 B. 多 60 C. 少 6 D. 少 60
3. 10 本我们二年级（下册）的数学书厚度最接近 ()。
A. 6 毫米 B. 6 厘米 C. 6 分米 D. 6 米
4. 在野外，可以观察树的年轮来辨别方向，树的年轮较疏的向着 () 面。
A. 东 B. 南 C. 西 D. 北
5. 7 时 15 分的时候，钟面上时针和分针所成的角是 ()。
A. 直角 B. 锐角 C. 钝角

三、细心算一算。（共 21 分）

1. 口算。（12 分）
- 35÷5=

25+47=

4×9=

60-17=

37+53=

140-50=

27÷9=

800+900=

18÷6=

93-39=

500+6=

7005-7000=
2. 用竖式计算，加★的验算。（2 分×3+3 分=9 分）
- 31÷4=

53÷7=

328+489=

★700-258=

四、操作题。（6 分+2 分+2 分=10 分）

1. 给下面的钟面画上分针。（6 分）



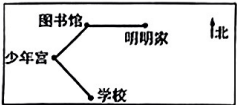
2. 画一条比 7 厘米短 25 毫米的线段。
3. 以下面的点作为顶点，画一个钝角。



五、辨别方向。（3 分）

右边是明明上学的行走路线图。

明明先从家向（ ）面走到图书馆，
再从图书馆向（ ）面走到少年宫，
最后从少年宫向（ ）面走到学校。



六、解决实际问题。（3 分×5=15 分）

1. 在文明城市创建活动中，二年级有 47 名同学去小区参加志愿活动。他们 6 人为一组，可以分成几组还多几人？
2. 今年植树节期间，三年级植树 267 棵，四年级植树 315 棵。四年级比三年级多植树多少棵？

3. 二（5）班有男生 19 人，女生 22 人。芳芳记录了这个班报名参加学校运动会的人数，结果如下。算一算，有多少人没有报名参加？

报名的	正正正正正
-----	-------

4. 奶奶家养的鸡比鸭多 25 只，后来又买来 15 只鸡和 20 只鸭。现在是鸡多还是鸭多，多多少只？

5.

商品名称	电冰箱	洗衣机	电视机	空调
价格（元）	2976	980	4098	（ ）

- (1) 王老师准备买 1 台电冰箱和 1 台电视机，大约需要几千元？

- (2) 空调的价钱比洗衣机多得多，比电视机少一些，空调可能是（ ）元。
请在合适的口里后画“√”。

1090

3080

4000

4200