

二年级数学

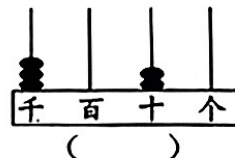
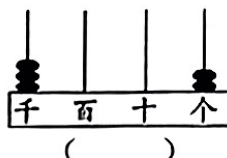
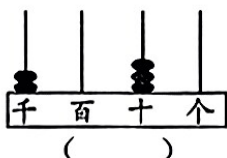
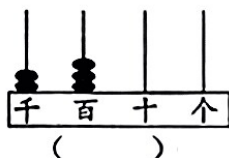
(时间: 60 分钟)

等级: _____

一、用心填一填。(共 34 分, 第 6 题 (2) 2 分, 其余每空一分)

1. 一个四位数, 最高位上是 5, 十位上是 3, 个位上是 8, 其他数位是 0, 这个数写作 (), 读作 ()。

2. 看图写数。



3. 在□中填上一个可能的数字。

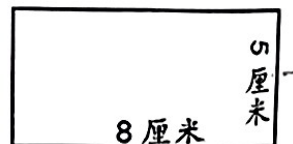
$4\square5 > 475$

$1\square38 < 1238$

$1000 > \square99$

4. 二(1)班有 35 位同学划船, 每条船能坐 4 人, 要租 () 条船。

5. 把右边的长方形折成一个最大的正方形, 这个正方形边长为 () 厘米, 剩下的图形是一个长方形, 长为 () 厘米, 宽为 () 厘米。



6.

学校名称	光明小学	实验小学	红旗小学	荆河小学
人数	860 人			756 人

(1) 实验小学两千五百人, 红旗小学三百八十九人, 请把表格填完整。

(2) 四所学校人数按从大到小排序 () > () > () > ()

(3) 光明小学比荆河小学多 () 人, (4) 四所学校一共 () 人

7. 在括号里填上合适的单位。

数学课本长 21 () 厚约 7 () 滕州墨子湖隧道长 1751 ()

小明身高 1 () 42 () 学校书桌高 8 ()

8. 在○里填上“>”“<”或“=”。

$3 \text{ 厘米} \bigcirc 3 \text{ 分米}$

$5 \text{ 毫米} \bigcirc 4 \text{ 厘米}$

$10 \text{ 厘米} \bigcirc 1 \text{ 米}$

$600 + 900 \bigcirc 900 + 600$

$4500 - 500 \bigcirc 7000 - 4000$

$260 + 300 \bigcirc 670 - 200$

9. $\square \div 8 = 5 \cdots \triangle$, \triangle 里最大能填 (), 最小能填 (); 如果余数是 3, \square 里是 ()。

二、仔细判一判。（对的打“√”，错的打“×”）（5分）

1. 一张长方形纸的四个角都是直角 ()
2. 10000 里有 10 个 100 ()
3. 用“正”字统计时，一个“正”字表示 1 ()
4. 在有余数的除法中，除数是 3，余数一定是 1 ()
5. 读 1010、1001、1100 时，都是只读一个零。 ()

三、认真选一选。（选谁就在谁的下面打“√”）（5分）

1. 四条边都相等，四个角都是直角的图形是()
A. 正方形 B. 长方形 C. 平行四边形
2. 1 块雪糕 3 元，小花有 17 元，她还差 () 元，就能买 6 块了
A. 1 B. 2 C. 3
3. $\star \div 6 = 7 \dots \square$ ，其中 \square 最大为 ()

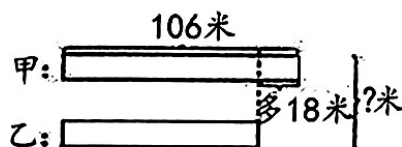
A. 7 B. 6 C. 5

4. 如右图，列式正确的是 ()

A. $106 - 18$ B. $106 + 18$ C. $106 - 18 + 106$

5. 下面四个数中，只读一个零的数是()

A. 5320 B. 4008 C. 5200



四、细心算一算（共 20 分，1、每题 1 分，2、每题 3 分）

1. 直接写出得数。

$70 + 450 =$	$360 - 120 =$	$700 + 800 =$	$6000 - 3000 =$
$498 - 201 \approx$	$99 + 803 \approx$	$5 \times 8 - 20 =$	$35 - 35 \div 7 =$

2. 列竖式计算。

$576 + 345$


$813 - 537$

$45 + 379 - 198$

$39 \div 7$

五、开心做一做。（共 12 分）

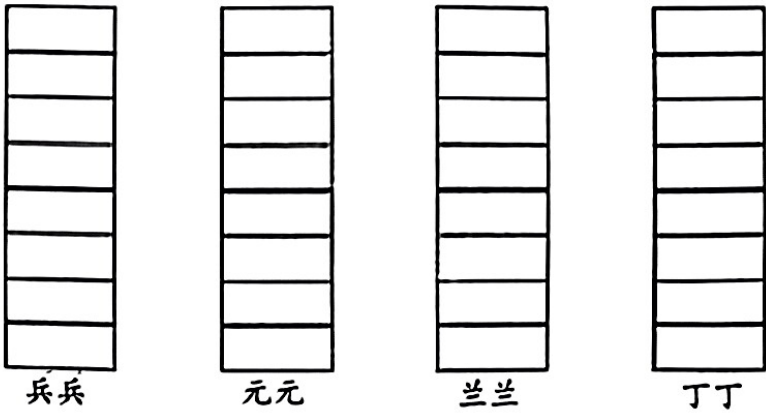
1. 哪个图形是小朋友看到的？在□ 里打“√”。



2. 先涂一涂，再填一填。

下面是阳光小学二年级一班学生参加全市“创建全国文明城市，争当文明小卫士”活动得到的小红花情况。


“文明小卫士”评比	
兵兵	★ ★ ★ ★ ★ ★
元元	★ ★ ★
兰兰	★ ★ ★ ★ ★ ★ ★ ★
丁丁	★ ★ ★ ★



- (1) () 获得的小五角星最多，() 获得的小五角星最少。
- (2) 兵兵比丁丁多获得() 颗小五角星，元元比兰兰少获得() 颗五角星。

六、专心解一解。（共 24 分, 1-3 每题 5 分, 4 题每空 3 分）

1. 冰箱有多高?




2. 爸爸给小红买了 1 个布娃娃和 5 个皮球共花了 73 元, 每个布娃娃 28 元, 每个皮球多少元?

3. 实验小学二年级订了 345 份《少年文摘》, 一年级比二年级少订了 125 份。一、二年级一共订了多少份?

4. 买电器



电饭煲
328元



电视
708元



手机
670元



电话
215元

(1) 妈妈买一部手机和一部电话, 共需支付多少元?

(2) 一台电视比一个电饭煲贵多少元?

(3) 用 1000 元可以购买哪些商品, 还剩多少钱?