

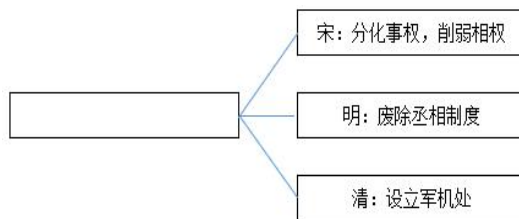
九年级历史（开卷）

第 I 卷(客观题 共 50 分)

该部分共 25 小题，每小题 2 分。请你在每小题所列出的四个选项中，选出一项符合题目要求的。

1. “周武王，始诛纣，八百载，最长久。”西周与商朝相比，政治上最突出的特点是
A. 实行世袭制
B. 实行分封制
C. 实行郡县制
D. 实行禅让制
2. 秦朝的“焚书坑儒”、汉朝的“罢黜百家，独尊儒术”、明朝的“八股取士”、清朝的“文字狱”等措施的实施，其共同目的是
A. 提高教育质量
B. 加强思想控制
C. 推动经济发展
D. 促进民族交融

3. 思维导图是一种有效的学习工具，对历史学习有独特价值。如图是某同学绘制的思维导图，空白处应填的关键词是



- A. 君主专制
B. 文化交流
C. 经济控制
D. 地方管理
4. 文物是宝贵的文化财富。如果文物会说话，某博物馆馆藏状元卷会说
A. 带你学习造纸工艺
B. 伴你领略魏晋书法
C. 和你品味最美宋词
D. 陪你探究科举考试
5. 汉武帝派张骞通西域，不久设置西域都护府对西域地区进行有效的管理；唐朝先后设立安西都护府和北庭都护府管理西域；清朝平定新疆大、小和卓的叛乱后设伊犁将军；左宗棠收复新疆后建立行省。对上述措施解释不准确的一项是
A. 西域在西汉正式归属中央
B. 唐朝对西域实行有效管理
C. 清朝对边疆管理方式单一
D. 历代政府重视新疆的治理
6. 某校决定排演一出有关中共一大的话剧。剧本中可能出现的情节是
A. 确立党的名称和奋斗目标
B. 决定发动南昌起义
C. 选举董必武为中央局书记
D. 决议建立抗日民族统一战线

7. 有学者评价“长征是将革命划分为‘公元前’和‘公元后’的一条分界线”。之所以称之为“分界线”是因为长征

- A. 建立了中华苏维埃政权
- B. 掀起了工人运动高潮
- C. 开启了新民主主义革命
- D. 使中国革命转危为安

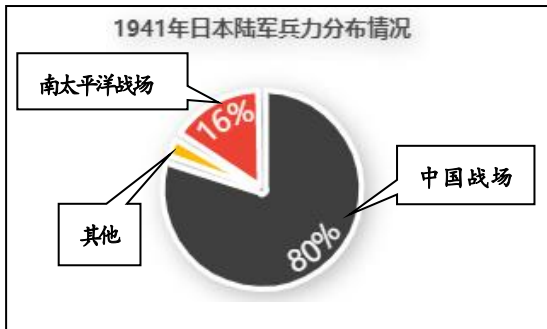
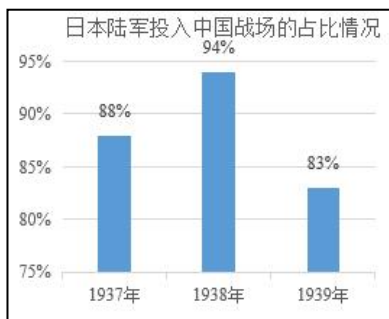
8. 仔细观察下表，毛泽东的主要履历折射出

表：毛泽东主要履历（1924~1926）

- ◎1924年2月，任国民党执行部委员、组织部秘书
- ◎1925年10月，任国民党中央宣传部代理部长
- ◎1926年11月，创办国民党中央农民运动讲习所

- A. 维新变法推动思想解放
- B. 华北运动拯救民族危亡
- C. 国共合作领导国民革命
- D. 解放战争进入反攻阶段

9. 下图是日本陆军在第二次世界大战期间的兵力投入统计。它们从一个侧面说明了



- A. 中国国民党高举抗日救亡的旗帜
- B. 日军侵华导致第二次世界大战全面爆发
- C. 正面战场与敌后战场的相互配合
- D. 中国是世界反法西斯战争的东方主战场

10. 八年级历史学习小组计划在暑假开展一次红色主题研学活动，实地了解1949年4月23日国民党在大陆统治结束的史实。他们应该选择去

- A. 北京
- B. 南京
- C. 锦州
- D. 徐州

11. 毛泽东说：讲到重工业不能忘记张之洞，讲到轻工业不能忘记张謇。轻工业方面是因为状元实业家张謇抱着“实业救国”的理想，创办了许多实业。其中最著名的是

- A. 北枪炮厂
- B. 汉阳铁厂
- C. 大生纱厂
- D. 福新面粉公司

12. 右图是《留美学生季报》民国三年夏季第二号的封面，该期发行于

- A. 1911年
- B. 1914年
- C. 1924年
- D. 1931年



13. 1949 年中央人民广播电台在某一活动现场直播道：“国旗已经升到旗杆的顶尖，开始在人民首都的晴空迎风招展。她象征着中国的历史已经走入一个新的时代，我们的——五星红旗将永远飘扬在人民祖国的大地上。”播音中“新的时代”始于

- A. “一五计划”的完成
- B. 中国同盟会的成立
- C. 政治协商会议的召开
- D. 中华人民共和国的成立

14. 民族要复兴，乡村必振兴。下列措施中，提高了农民生产积极性，解放了农业生产力的是

- ①土地改革
- ②农业合作化
- ③人民公社化运动
- ④家庭联产承包责任制

- A. ①②③
- B. ②③
- C. ①③④
- D. ①②④

15. 在我国第一部社会主义类型的宪法制定过程中，毛泽东要求中央政治局委员参考以下文献。这说明，该宪法的制定

国家或地区	主要文献
苏联	1918 年苏俄宪法、1936 年苏联宪法
欧洲	罗马尼亚、波兰、德国、法国等国宪法
中国	1923 年曹锟宪法、1946 年中华民国宪法

- A. 体现了开放的国际视野
- B. 以东欧宪法为主要依据
- C. 主要借鉴西方国家法制思想
- D. 沿袭了中国近代宪法的精神

16. 西方曾有人断言：社会主义和市场经济不可能兼容，社会主义不可能搞市场经济。党的十一届三中全会以来的改革开放实践和理论总结，有力而响亮地打破了这个谰言。明确提出建立社会主义市场经济体制改革目标的会议是

- A. 中共十二大
- B. 中共十四大
- C. 中共十五大
- D. 中共十九大

17. 下列城市属于我国第一批经济特区的是

- ①深圳
- ②珠海
- ③汕头
- ④浦东
- ⑤厦门

- A. ①②③⑤
- B. ②③④⑤
- C. ①③④⑤
- D. ①②③④

18. “各民族要相互了解，相互尊重、相互包容、相互欣赏、相互学习、相互帮助，像石榴籽那样紧紧抱在一起。”为铸牢中华民族共同体意识，我国实行了

- A. 人民代表大会制度
- B. 民族区域自治制度
- C. 基层群众自治制度
- D. 民主集中制

19. 1972 年 2 月 21 日，尼克松在访华欢迎宴会上致辞说：“今天我们有巨大的分歧，使我们走到一起的，是我们有超过这些分歧的共同利益。”这与我国_____外交方针相近

- A. 互不侵犯
- B. 互不干涉内政
- C. 互相尊重领土完整
- D. 求同存异

20. 2022 年 4 月 16 日，神舟 13 号飞船成功返回地球，三名航天员结束了长达半年的太空之旅，创造了新的航天壮举。回望历史，我国太空探索开始于

- A. 第一颗原子弹爆炸成功
- B. 第一颗氢弹爆炸成功
- C. 第一颗人造地球卫星发射成功
- D. 第一艘载人飞船试验成功

21. 古代亚非地区的文明古国创造了辉煌灿烂的文明成就。下列文明成就与地区搭配错误的是

- A. 金字塔——古希腊
- B. 《汉谟拉比法典》——古巴比伦
- C. 甲骨文——中国
- D. 种姓制度——古印度

22. 14—17 世纪，欧洲新的生产关系和新兴阶级出现，推动了文艺复兴、新航路开辟等一系列变革。欧洲封建社会逐步走向资本主义社会。这反映的欧洲发展阶段是

- A. 步入封建时代
- B. 进入中世纪
- C. 走向近代
- D. 迈入现代

23. 历史学家阿克顿认为，1689 年通过的《权利法案》本身是狭隘、混乱且令人不满意的；但作为一个阶级的代表，它与阶级压迫、国家之间的压迫完美契合，所以处在奇特的不完美状态。其论述旨在强调

- A. 革命导致国内外局势紧张
- B. 法案维护了封建君主专制
- C. 君主立宪制契合英国国情
- D. 议会与王权矛盾不可调和

24. 各州代表既希望联邦政府的权威得到有效的施展，但又要防止不同利益集团对政府权力的垄断……正因为有这些忧虑，这部法律格外注重权力的分割与制约。材料中的“这部法律”是指

- A. 《人权宣言》
- B. 1787 年宪法
- C. 《临时约法》
- D. 《拿破仑法典》

25. 右图是某班历史兴趣小组举办历史谜语小竞赛中的一个组合式谜题。你的谜底是

- A. 英国“光荣革命”
- B. 美国独立战争
- C. 法国大革命
- D. 德意志柏林起义

谜题

谜面一：攻占巴士底狱

谜面二：建立了共和国

谜面三：处死路易十六

谜面四：雅各宾派专政

谜底：_____

第Ⅱ卷(主观题 共 50 分)

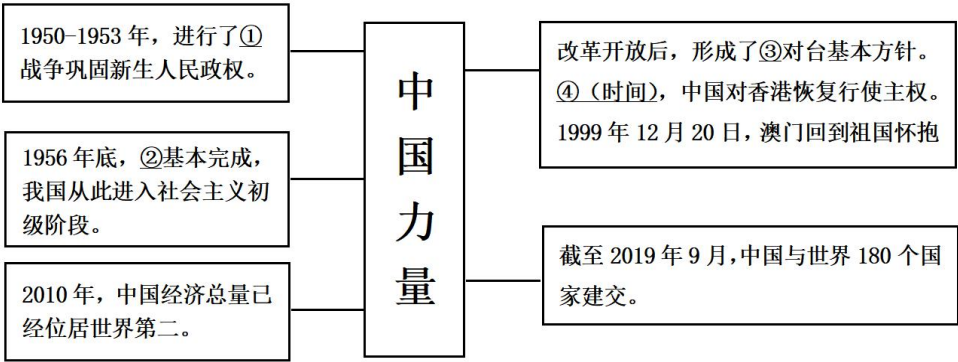
26. (20 分) 创新是一个民族进步的灵魂，是一个国家兴旺发达的不竭源泉。纵横历史，请你运用所学知识完成以创新为主题的探究性学习。

【近代篇——西方科技】

类别	第一次工业革命	第二次工业革命
国家	A	美国、德国
重要发明家	哈格里夫斯	莱特兄弟
	瓦特	本茨
	斯蒂芬森	爱迪生
时代特征	“B”	“电气时代”

(1)依据表格信息提示和所学知识，将表格内容填写完整。选择表格中的一位发明家，谈一谈他的发明带来的影响。（8 分）

【现代篇——中国力量】







(2)依据所学知识，写出知识结构图中①战争名称。②是哪一历史事件？将③对台基本方针填写完整。④具体时间是什么？（8 分）

【感悟篇——展望未来】

(3)通过以上探究性学习，从不同角度归纳出有利于创新发展的经验（两点即可）？（4 分）

27.（16分）阅读材料，回答问题。

【扬梦·乘风破浪】	【梦碎·天朝之殇】	【寻梦·长夜星光】	【追梦·奔向富强】
			
1422年，郑和的船队结束第六次远航归国，随船来访的有暹罗、苏门答刺和阿丹等国使节。他的远航展现了中国的国威，为人类的航海事业作出了伟大贡献。	1842年，中国在遭遇“三千年未有之变局，三千年未有之强敌”，经过战争的激烈碰撞后，开始经历长达百年的屈辱。对于中国来说，这场战争是一块“界碑”。	1905年，孙中山在《民报》上提出“三民主义”。1919年，李大钊在《新青年》发表《我的马克思主义观》。1929年，毛泽东发表《星星之火，可以燎原》。	2022年，稳居全球第二大经济体的中国，成功举办了冬奥会，神舟十三号载人飞行任务取得圆满成功，疫情防控成绩斐然。我们召开了具有划时代意义的“二十大”，向着实现中华民族伟大复兴的中国梦奋勇前进！

- (1)结合材料“梦碎”，写出使“天朝梦碎”的战争及战后中国被迫签订的不平等条约的名称。为什么说这场战争，对中国来说是一块“界碑”？（6分）
- (2)根据材料“寻梦”分析，在“寻梦”路上中国的哪些阶层或政党进行了哪些探索（两点即可）？（8分）
- (3)从“扬梦→梦碎→寻梦→追梦”的曲折发展之路中，你获得了哪些启示？（2分）

28. （14 分）阅读材料，回答问题。

材料一 马克思给我们留下的最有价值、最具影响力的精神财富，就是以他名字命名的科学理论……这一理论犹如壮丽的日出，照亮了人类探索历史规律和寻求自身解放的道路。

——摘自习近平《在纪念马克思诞辰 200 周年大会上的讲话》

(1)材料一中的“科学理论”诞生的标志是什么？其诞生有何重大意义？ （4 分）

材料二 回顾百年党史，马克思主义中国化实现了（三次）历史性飞跃

三次飞跃	信息提示
第一次	马克思列宁主义在中国的创造性运用和发展，实践证明了的关于中国革命和建设的正确的理论原则和经验总结。
第二次	党领导和支持开展真理标准问题大讨论，从新的实践和时代特征出发坚持和发展马克思主义，实现了马克思主义中国化的新阶段。
第三次	中华文化和中国精神的时代精华，实现了马克思主义中国化新的飞跃。

(2)根据材料二并结合所学知识，分别写出“三次历史性飞跃”中所形成的的理论名称。建设具有中国特色社会主义理论是在第几次“历史性飞跃”中提出的？（8 分）

材料三 某历史教材某单元目录 （部分）

单元题目：_____
第一章 马克思主义的诞生
第一节 社会主义从空想到科学的发展
.....
第二章 社会主义革命和建设道路的探索
第一节 俄国十月革命（社会主义革命）的胜利
.....
第三章 社会主义的发展
.....
第三节 中国特色社会主义的兴起与发展
.....

(3)根据材料三，结合所学知识为该单元拟出一个题目。（2 分）