

## 2022 学年上期末阶段性教学质量诊断监测 九年级历史试题卷

(全卷两个大题, 29 小题, 共 6 页; 满分 100 分, 考试用时 75 分钟)

**注意事项:** 1. 本卷为试题卷。考生解题作答必须在答题卡上; 答案书写在答题卡相应位置上; 在试题卷、草稿纸上作答无效。

2. 考试结束后, 请将答题卡交回。

**一、选择题**(本大题共 25 小题, 每小题 2 分, 满分 50 分。在每小题给出的四个选项中, 只有一项是最符合题目要求的)

- 被古希腊历史学家希罗多德称为“尼罗河的馈赠”的国家是  
A. 古代埃及 B. 古代希腊  
C. 古代印度 D. 古代两河流域
- 关于《汉谟拉比法典》, 下列观点不正确的是  
A. 这是一部古巴比伦的法典  
B. 人们从这部法律中可以探知古巴比伦社会生活状况  
C. 它是迄今已知世界上第一部较为完整的成文法典  
D. 他维护每一个古巴比伦人的权利
- 种姓制度是古代印度文明的标志之一, 种姓制度是由下列什么人创造的  
A. 阿卡德人 B. 雅利安人 C. 苏美尔人 D. 古印度人
- 1895 年《马关条约》把台湾割给了日本, 经过中国人民的长期斗争, 台湾挣脱日本殖民统治, 回到祖国怀抱是在  
A. 1937 年 B. 1942 年 C. 1945 年 D. 1949 年
- 欧洲文明的发祥地是  
A. 古代罗马 B. 古代埃及 C. 古代希腊 D. 古代中国
- 公元前 2 世纪, 掌握地中海霸权的是  
A. 雅典 B. 斯巴达  
C. 罗马共和国 D. 罗马帝国
- 据后汉书记载, 166 年大秦王安敦首次派使臣来东汉, 把象牙、犀牛角等礼物送给汉皇帝。史书记载称为“大秦”的国家就是  
A. 罗马共和国 B. 罗马帝国  
C. 东罗马帝国 D. 西罗马帝国

8. 2020 年是闰年, 古人为了纠正古代历法中每年将近 6 小时的误差, 采取每 4 年增加一天的办法设置闰年。设置闰年的方法最早出自

- A. 埃及人创立的太阳历 B. 中国人创立的夏历  
C. 罗马人编制的“儒略历” D. 苏美尔人创制的阴历

9. 古希腊文明和春秋战国时期的中国文明高度发展, 交相辉映。下列能证明这一说法的文明成果是

- A. 《十二铜表法》 《史记》 B. 《荷马史诗》 《论语》  
C. 《十二铜表法》 《论语》 D. 《荷马史诗》 《窦娥冤》

10. 西欧中古时期的分封制与中国西周时期的分封制的根本区别在于

- A. 分封的对象不同 B. 相差的时间很长  
C. 维护的制度不同 D. 分封的方式不同

11. 西罗马帝国灭亡前后, 日耳曼人在西欧建立了众多王国, 被称为“蛮族王国”, 其中法兰克王国最为强大。它的建立者是

- A. 屋大维 B. 凯撒 C. 查理曼 D. 克洛维

12. 从 9 世纪开始, 一种新的农业经济组织方式在西欧中世纪的乡村逐渐流行开来, 成为当时最基本的经济社会组织方式。它是

- A. 庄园 B. 手工工场 C. 租地农场 D. 城邦

13. 下列事件中最能体现近代早期西欧社会经济变化的是

- A. 西欧等级制度的形成 B. 西欧城市的兴起  
C. 领主拥有至高无上的权力 D. 租地农场和手工工场的出现

14. 12 世纪, 西欧教育与学术出现了新的气象, 被认为是欧洲中世纪教育“最美好的花朵”是

- A. 大学的兴起 B. 改造形成了阿拉伯数字  
C. 城市的复苏 D. 中国印刷术的普遍推广

15. 下列历史文献中, 内容包括了《查士丁尼法典》、历代罗马法学家有关法律问题的论文和著作等法律文献, 为欧洲民法奠定了基础的是

- A. 《汉谟拉比法典》 B. 《十二铜表法》  
C. 《新法典》 D. 《罗马民法大全》

16. 日本通过大化改新发展成为一个中央集权制的封建国家。请问当时日本进行的一系列改革仿效的是中国的

- A. 秦汉时期 B. 隋唐朝时期 C. 宋元时期 D. 明清时期

17. 与阿拉伯国家兴起与统一密切相关的宗教是

- A. 基督教 B. 伊斯兰教 C. 佛教 D. 天主教





18. 阿拉伯数字在我们学习、工作和生活中运用相当广泛, 它的发明者和传播者分别是
- A. 古代印度人、古巴比伦人      B. 古代阿拉伯人、罗马人  
C. 古代印度人、阿拉伯人      D. 古代阿拉伯人、古埃及人
19. 17、18 世纪, 资产阶级革命的时代来临。其中既是一次民族解放战争, 也是一场资产阶级革命的是
- A. 法国大革命      B. 英国资产阶级革命  
C. 美国独立战争      D. 1861 年俄国农奴制改革
20. 开工业文明先河的国家是
- A. 荷兰      B. 英国      C. 西班牙      D. 葡萄牙
21. 比较评价历史人物是历史学科的能力要求之一。华盛顿、拿破仑作为资产阶级的政治家, 其历史作用的相同之处是
- A. 赢得了民族独立      B. 维护了国家统一  
C. 打击了欧洲封建势力      D. 推动了资产阶级民主政治的进程
22. 它是全世界无产阶级的战歌, 展现了无产者的革命精神和英雄气概, 中国共产党全国代表大会闭幕时会奏响它。这里的它是
- A. 《黄河大合唱》      B. 《义勇军进行曲》  
C. 《国际歌》      D. 《英雄交响曲》
23. 下列连线正确的一组是
- A. 达·芬奇——《最后的晚餐》      B. 但丁——《哈姆雷特》  
C. 莎士比亚——《神曲》      D. 薄伽丘——《罗密欧与朱丽叶》
24. 物理学上功率的单位“W (瓦)”是以某位重要历史人物命名的, 下列发明与该人物有关的是
- A. 发明火车机车      B. 改良蒸汽机  
C. 发明汽船      D. 发明内燃机
25. 1871 年 3 月 18 日, 巴黎的无产阶级和人民群众举行武装起义, 推翻了资产阶级的反动统治, 建立的世界上第一个无产阶级政权是
- A. 人民委员会      B. 共产主义者同盟  
C. 第一国际      D. 巴黎公社

## 二、非选择题 (本大题共 4 小题, 第 26 小题 12 分, 第 27 小题 11 分, 第 28 小题 14 分, 第 29 小题 13 分, 满分 50 分)

26. (12 分) 阅读下列材料, 回答问题。

材料一: 马克思在中学毕业时就立志为全人类服务。大学毕业后他来到巴黎, 深入调查工人的生活 and 劳动状况, 经常参加工人集会和斗争, 同时也进行了紧张的理论研究工作, 由于从事革命活动, 马克思、恩格斯遭到各国反动政府的迫害, 过着颠沛流离的生活, 但是他们没有退缩。通过不断

九年级历史试题卷·第 3 页 (共 6 页)

总结革命斗争的实践经验, 以及吸收前人优秀的思想成果, 马克思、恩格斯创立了马克思主义理论。在生命的最后 10 年, 马克思的身体状况极其恶化, 仍笔耕不辍, 因劳累而倒在安乐椅上永远地睡着了。

——摘编自《历史·中外历史人物评说》(人民版)

材料二: 毛泽东最伟大的历史功绩, 是把马克思列宁主义基本原理同中国革命和建设具体实际结合起来, 领导党和人民找到了一条新民主主义革命的正确道路, 完成了反帝反封建的任务, 结束了中国半殖民地半封建社会的历史。

——江泽民

- (1) (6 分) 结合所学知识, 写出 1848 年发表的标志马克思主义诞生的重要文献。根据材料一说说, 马克思为什么能将青少年时期的崇高理想发展成为共产主义思想。
- (2) (4 分) 根据材料二并结合所学知识说一说, 在中国革命时期以毛泽东同志为主要代表的中国共产党人, 在学习和实践马克思主义方面取得了什么重大理论成果和实践成果?
- (3) (2 分) 历史蕴含着前人丰富的经验和智慧, 完成以上问题后你可以得到怎样的启示?

27. (12 分) 阅读下列材料, 回答问题。

材料一: 它促使了欧洲人从以神为中心过渡到以人中心, 在于人的觉醒, 使人们把关注的重点从来世转移到现世。它唤醒了人们积极进取的精神、创造精神以及科学实验的精神, 从而在精神方面为资本主义制度的胜利和确立开辟了道路。

——《图说天下世界史系列》

材料二: 识图

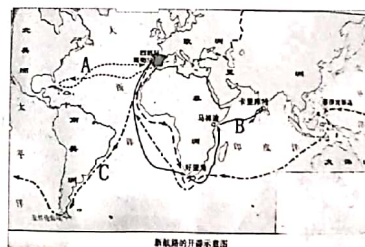


图 1 新航路开辟示意图

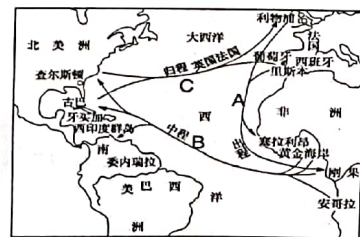


图 2 “三角贸易”示意图

- (1) (4 分) 指出材料一中的“它”指的是什么?“它”对资本主义的产生有何影响?

九年级历史试题卷·第 4 页 (共 6 页)



扫描全能王 创建



- (2) (4 分) 根据材料二中图 1 指出 A、B、C 三条航线中, 哪一条航线完成了环球航行 (写出字母)? 这幅图反映的历史活动对世界产生了什么重大影响?
- (3) (4 分) 根据材料二中图 2, 指出图中最能反映资本原始积累血腥性的是哪一段航程 (写出字母)。结合所学知识, 说出早期殖民掠夺的积极影响?
28. (14 分) 阅读下列材料, 回答问题。

**材料一：**独立后的美国于1787年制定了一部宪法，这部宪法是世界上第一部资产阶级成文宪法。宪法规定：国家行政权授予总统，总统既是国家最高行政首脑，又是军队的总司令。总统由选举产生，任期四年。

材料二：英国启蒙思想家洛克认为：统治者如果不以法律而是以他的意志作为统治的准则，如果他的命令和行动不是为了保护人民的财产，而是以满足他的野心、贪欲和其他不正当的欲望为目的，那就是暴政。

材料三：法律是公共意志的表现。全国公民都有权亲身或经由其代表去参与法律的制定。法律对于所有的人，无论是施行保护或处罚都是一样的。在法律面前，所有的公民都是平等的，故他们都能平等地按其能力担任一切官职、公共职位和职务，除德和才能上的差别外，不得有其他差别。

- (1) (4分) 材料一中的“宪法”指的是哪一部宪法? 说出美国历史上的第一任总统。
- (2) (4分) 材料二主张用什么来限制统治者的权利? 英国资产阶级革命后颁布了哪一文件体现了这一主张?
- (3) (4分) 材料三摘自法国大革命时期哪一重要文献? 1972年, 毛泽东会见法国外长时说: “我比较熟悉你们的法国大革命, 它曾对整个世界产生了深远影响。”这里的深远影响主要是指什么?
- (4) (2分) 结合美、英、法三国颁布的法律文献的内容及影响, 请你概括世界近代政治文明演进的趋势?

29. (12 分) 新中国成立时, 国民党留下的是满目疮痍的国土, 年轻的共和国面临着帝国主义的颠覆和国内反革命势力的破坏。中国共产党采取一系列积极稳健的政策、措施, 开始了建设新中国的伟大斗争。阅读材料, 完成以下要求。

**材料一：**新中国成立初期，党在发扬农民个体经济积极性的同时，逐步推动个体农民之间的劳动互助。国家还集中力量治理了淮河和修建了荆江分洪、黄河下游防洪工程等骨干项目，初步改变了旧中国江河堤岸年久失修、水患频繁的状况。各地还大力整修水渠塘堰，扩大农田灌溉面积。

——摘编自《中国共产党简史》

### 材料二

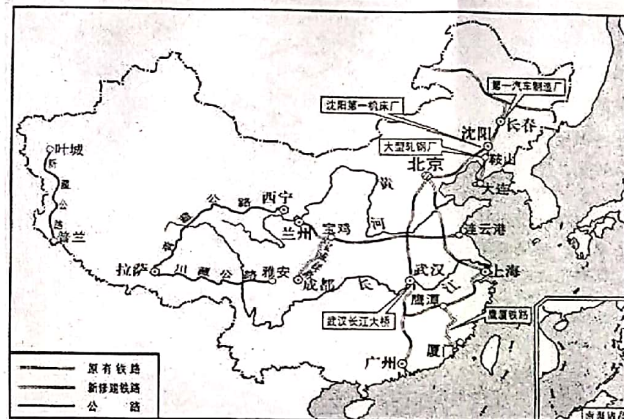


图 3

- (1) (4 分) 结合所学知识回答, 1950 年党和国家采取什么重大措施调动了农民生产积极性? 材料一中的一系列举措起到什么重要作用?
- (2) (4 分) 结合所学知识, 说出新中国成立初期, 为了给国内建设创造有利的国际环境, 党和国家作出了哪些努力。(请列举两例)
- (3) (2 分) 根据图 3, 指出第一个五年计划期间的建设成就主要集中在哪两个领域。
- (4) (2 分) 我国在较短时间内迅速地恢复和发展了起来。综合以上材料并结合所学知识, 你认为成功的经验是什么?

