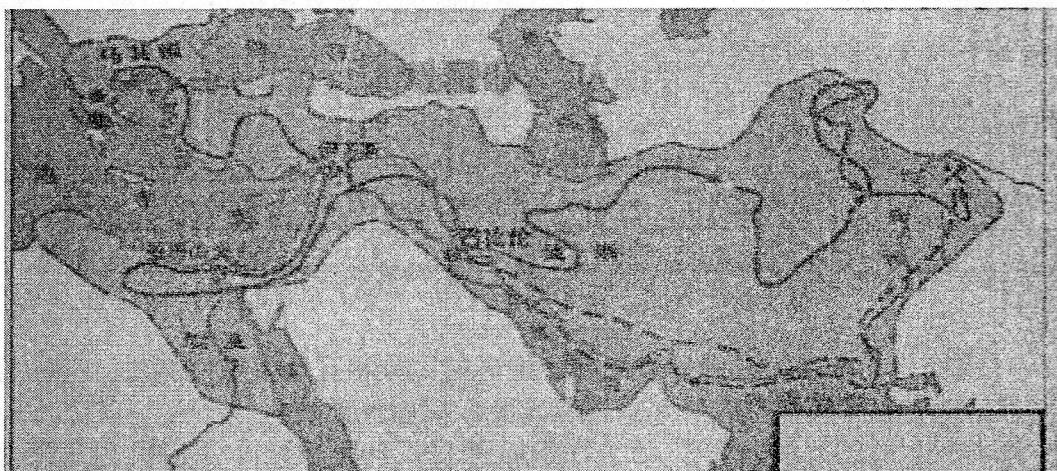


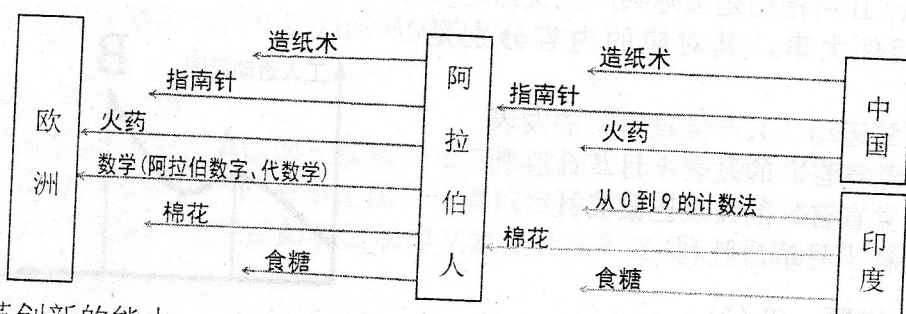
九年级历史试卷

一、单项选择题(每题 2 分, 共计 30 分)

1. 古代亚非地区的文明古国创造了辉煌灿烂的文明成果。下列文明成果属于古代两河流域的一项是()
A. 金字塔 B. 《汉谟拉比法典》 C. 佛教 D. 甲骨文
2. 威尔斯在《世界简史》中说:“……有的城邦则实行民主政治, 领导者由全体公民选举产生。”其中“实行民主政治”的城邦代表是()
A. 科林斯 B. 斯巴达 C. 米洛斯 D. 雅典
3. 识图是历史学习的基本能力之一。下面的地图是地跨欧、亚、非三洲的大帝国版图, 该帝国是()



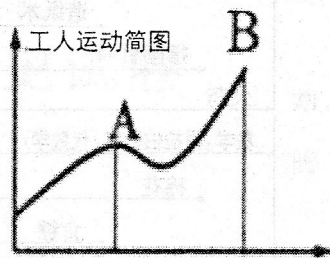
- A. 亚历山大帝国 B. 东罗马帝国 C. 奥斯曼土耳其帝国 D. 阿拉伯帝国
4. 它在西方古典文学中一直享有最高的地位。从公元前 8、7 世纪起, 就已经有许多希腊诗人摹仿它, 公认它是文学的楷模。“它”是()
A. 《天方夜谭》 B. 《荷马史诗》 C. 《医典》 D. 《史记》
5. 7 世纪中期, 日本进行了大化改新; 8 世纪前期, 法兰克王国对土地分封形式进行改革。这两次改革的共同点是()
A. 国家定期把土地分给农民耕种 B. 学习借鉴中国的先进制度
C. 得到土地的农民都必须服兵役 D. 促进本国封建社会的形成
6. 在欧洲文化史上有位哲学家, 他一直被看作是为追求真理而死的圣人, 几乎与孔子在中国历史上所占的地位相同。他终身探讨人的灵魂、幸福和美德等问题。他是()
A. 亚里士多德 B. 德谟克利特 C. 苏格拉底 D. 柏拉图
7. 下图反映了阿拉伯人()



- A. 缺乏改革创新的能力
B. 创造了独具特色的文化
C. 保存了古代欧洲文明
D. 促进了东西方文化交流
8. “15、16 世纪的西欧农场主一般自己没有土地，而是从土地所有者那里租入土地经营农业，获得平均利润，并按契约规定支付给土地所有者地租，并在租用的土地上雇佣劳动者为市场需要而从事生产。”从材料中我们可以得出()
A. 农场经营具有某些资本主义特征
B. 西欧资产阶级代替地主阶级
C. 农业生产活动深受商品经济影响
D. 封建制度阻碍资本主义发展
9. 茅盾说莎士比亚的作品“反映了旧的贵族文化和新的商业资产阶级文化的冲突”。这体现了文艺复兴()
A. 成为资产阶级统治的基础
B. 推动了中世纪西欧城市的重新兴起
C. 推动了西欧大学的兴起
D. 是一场资产阶级性质的思想文化运动
10. “到 13 世纪欧洲人已在帆船船尾安装了舵，中国发明的罗盘针也已于 12 世纪末 13 世纪初由阿拉伯人传入欧洲，这大大提高了航行的效率。”相关内容阐述的是新航路开辟的()
A. 条件
B. 原因
C. 影响
D. 性质
11. 历史解释是以史料为依据，对历史事件进行理性分析和客观评价。下列属于历史解释的是()
A. 1689 年英国议会通过了《权利法案》
B. 18 世纪 60 年代英国开始进行工业革命
C. 新航路的开辟使世界开始连为一个整体
D. 迪亚士第一个到达好望角
12. 《全球通史》一书中写道：“英国资产阶级革命的根源可以在国会和斯图亚特王朝之间的冲突中找到。”其“根源”是指()
A. 苏格兰人民爆发反抗国王的起义
B. 封建专制统治阻碍资本主义发展
C. 议会议员猛烈抨击国王独断专权
D. 国王召集议会要求增加政府税收
13. 据统计，1754-1784 年，英国建筑工人群体文盲率为 51%。但到 1844-1851 年，建筑工人文盲率为 38%。出现这一变化的主要原因是()
A. 工人地位的提高
B. 启蒙运动的推动
C. 义务教育的普及
D. 工业革命的需要
14. 恩格斯在《英国工人阶级现状》中描述：“伦敦特别是伦敦工人区的坏空气，最能助长肺结核的发展。”在伦敦工会 1883 年的报告中，有 1/3 的工人都是死于肺结核。此时肺结核大量发生的主要原因是()
A. 医疗技术水平不断下降
B. 农业衰退导致食物短缺
C. 工业革命造成环境恶化
D. 人口膨胀致使工人贫困

15.右图中 A、B 所指的是国际共产主义运动发展中的两件大事，其对应的内容分别是 ()

- A.英国宪章运动《共产党宣言》的发表
- B.《共产党宣言》的发表十月革命胜利
- C.《共产党宣言》的发表巴黎公社
- D.巴黎公社十月革命胜利



二、判断改错题。(8 分)

16、新航路的开辟和早期殖民掠夺对世界的发展产生重要影响。辨别下列史实的正误，在题前的【 】内正确的打“√”，错误的打“×”并加以改正。

【 】(1)葡萄牙在亚非拉地区建立了许多殖民据点，如中国的香港，在当地进行殖民统治。

改正: _____

【 】(2)新航路开辟给中国带来了新的农作物，例如玉米、马铃薯等，在一定程度上缓和了中国因人口迅速发展所面临的粮食问题。

改正: _____

【 】(3)1588 年，英国打败葡萄牙的“无敌舰队”，殖民势力大增。

改正: _____

【 】(4)美国凭借强大的实力最终战胜了荷兰和法国，在世界各地夺取了大片殖民地，自诩为“日不落帝国”。

改正: _____

三、材料分析题(20 分)

17.阅读材料回答问题

材料一：广大农民被推向市场，在竞争机制影响下必然出现分化，少数人富裕起来，甚至转向以经商为主，用利润中的一部分去缴贡赋。……于是许多人就在农闲时去做工，成为商人所办的分散手工工场的工人。他们领取工资，实际上与商人建立雇佣关系。

——刘宗绪《世界近代史》

(1)据材料一，概括 14 世纪以后欧洲经济发生了怎样的变化。(2 分)

(2)根据所学指出材料一中的这些变化有何影响？(2 分)

材料二：在封建主义向资本主义演变的过程中，开创新制度的思想先驱对于传统文化大都有离异和回归两种倾向。资本主义发展最早的西欧是一种类型，那里的离异，主要表现为对中世纪千年黑暗的批判和背离；那里的回归，则主要表现为从希腊、罗马古代精神文明中寻求人文主义的力量源泉。

——章开沅《离异与回归》

(3)材料二阐述的是哪一历史事件？举出与这一事件有关的一位代表人物。(4 分)

(4)材料二中对这件事的“回归”是如何理解的？(2分)

18.阅读材料，回答问题。

材料一：凡未经议会同意，以国王权威停止法律或停止法律实施之僭越权力，为非法权力……除经议会同意外，平时在本王国内征募或维持常备军，皆属违法……

(1)对材料中这一现象产生关键影响的法律文献是什么？之后，英国的权力重心发生了怎样的转移？(4分)

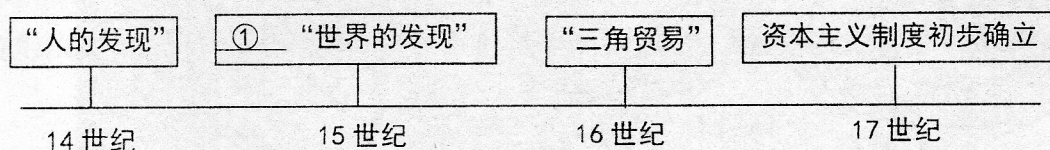
材料二：人人生而平等，他们都从他们的“造物主”那边被赋予了某些不可转让的权利，其中包括生命权、自由权和追求幸福的权利。

(2)材料二表述的文献被称为“第一个人权宣言”。它是什么文献？其基本主张是什么？(4分)

(3)依据上述材料并结合所学知识，概括世界近代政治文明演进的趋势。(2分)

四、阅读材料，完成下列探究活动。(12分)

19.材料一：观察下图



材料二：15 世纪，随着欧洲的海外扩张使各地区的民族相互发生直接交往，世界历史的地区性阶段宣告结束。——{美}斯塔夫里阿诺斯：《全球通史》

材料三：16 世纪，欧洲的黄金从 55 万公斤增加到 119 万多公斤……物价上涨使靠工资为生的工人实际工资下降，日趋贫困。按传统方式征收定额货币地租的封建主，收入也减少了。新兴的资产阶级、新贵族靠使用廉价的劳动力和高价出售产品而得到好处。

——孔祥民主编：《世界中古史》

(1)请把材料一中的①填完整_____；并写出一个与该事件相关联的一个历史人物。(4分)

(2)给上述材料拟一个合适的标题_____。(2分)

(3)请围绕上述材料，结合世界近代史相关史实，自拟观点，进行论述。(6分，要求：观点正确，史实准确，论证充分，表述清晰。)